








- ๒ ข้อมูลจำนวนประชากรที่ออกกำลังกายในสวนสาธารณะแห่งหนึ่งตั้งแต่วันจันทร์ถึงวันศุกร์

จำนวนประชากรที่ออกกำลังกายในสวนสาธารณะแห่งหนึ่งตั้งแต่วันจันทร์ถึงวันศุกร์

				
วันจันทร์	วันอังคาร	วันพุธ	วันพฤหัสบดี	วันศุกร์

กำหนดให้  แทนจำนวนประชากรที่คน

ออกจำนวนประชากร 50 คน

-  แทนจำนวนประชากรกี่คน
-  แทนจำนวนประชากรกี่คน
- วันอังคารมีจำนวนประชากรที่ออกกำลังกายในสวนสาธารณะกี่คน
- วันศุกร์มีจำนวนประชากรที่ออกกำลังกายในสวนสาธารณะมากกว่าหรือน้อยกว่าวันพฤหัสบดีจำนวนกี่คน
- ให้นักเรียนตั้งคำถามเกี่ยวกับแผนภูมิรูปภาพพร้อมทั้งทำคำตอบ จำนวน 1 ข้อ

ใบกิจกรรม 6.2

เขียน ✓ ลงใน และเขียนคำตอบในช่องว่าง

แบบสอบถามรสชาติของไอศกรีมและเครื่องดื่มที่ชอบ

ท่านชอบไอศกรีมรสชาติใดมากที่สุด ช็อกโกแลต สตรอว์เบอร์รี่

ท่านชอบเครื่องดื่มรสชาติใด น้ำส้ม น้ามะนาว

ผู้ให้ข้อมูล



แบบสอบถามรสชาติของไอศกรีมและเครื่องดื่มที่ชอบ

ท่านชอบไอศกรีมรสชาติใดมากที่สุด ช็อกโกแลต สตรอว์เบอร์รี่

ท่านชอบเครื่องดื่มรสชาติใด น้ำส้ม น้ามะนาว

ผู้ให้ข้อมูล

