


ใบกิจกรรม 6.1

พิจารณาแผนภูมิรูปภาพ แล้วตอบคำถามต่อไปนี้

- 1) ข้อมูลการเล่นพื้นบ้านของไทยที่นักเรียนชั้น ป. 3 รู้จัก ดังนี้

จำนวนนักเรียนชั้น ป.3 ที่รู้จักการเล่นพื้นบ้านของไทย



กำหนดให้ ● แทนจำนวนนักเรียน 4 คน

- 1) แผนภูมิรูปภาพแสดงข้อมูลของอะไร

.....

- 2) นักเรียนชั้น ป.3 รู้จักการเล่นมอญซ่อนผ้าจำนวนกี่คน

.....

- 3) การเล่นพื้นบ้านใดที่นักเรียนชั้น ป.3 รู้จักมากที่สุด และมีจำนวนกี่คน

.....

- 4) การเล่นพื้นบ้านใดที่นักเรียนชั้น ป.3 รู้จักจำนวนเท่ากันและจำนวนกี่คน






.....


- 5) ให้นักเรียนตั้งคำถามจากแผนภูมิรูปภาพพร้อมทั้งหาคำตอบ จำนวน 1 ข้อ

.....



- ๒ ข้อมูลจำนวนประชากรที่ออกกำลังกายในสวนสาธารณะแห่งหนึ่งตั้งแต่วันจันทร์ถึงวันศุกร์

จำนวนประชากรที่ออกกำลังกายในสวนสาธารณะแห่งหนึ่งตั้งแต่วันจันทร์ถึงวันศุกร์

				
วันจันทร์	วันอังคาร	วันพุธ	วันพฤหัสบดี	วันศุกร์

กำหนดให้  แทนจำนวนประชากรที่คน

ออกกำลังกาย 50 คน

-  แทนจำนวนประชากรกี่คน
-  แทนจำนวนประชากรกี่คน
- วันอังคารมีจำนวนประชากรที่ออกกำลังกายในสวนสาธารณะกี่คน
- วันศุกร์มีจำนวนประชากรที่ออกกำลังกายในสวนสาธารณะมากกว่าหรือน้อยกว่าวันพฤหัสบดีจำนวนกี่คน
- ให้นักเรียนตั้งคำถามเกี่ยวกับแผนภูมิรูปภาพพร้อมทั้งทำคำตอบ จำนวน 1 ข้อ

ใบกิจกรรม 6.2

เขียน ✓ ลงใน และเขียนคำตอบในช่องว่าง

แบบสอบถามรสชาติของไอศกรีมและเครื่องดื่มที่ชอบ

ท่านชอบไอศกรีมรสชาติใดมากที่สุด ช็อกโกแลต สตรอว์เบอร์รี่

ท่านชอบเครื่องดื่มรสชาติใด น้ำส้ม น้ामะนาว



ผู้ให้ข้อมูล

แบบสอบถามรสชาติของไอศกรีมและเครื่องดื่มที่ชอบ

ท่านชอบไอศกรีมรสชาติใดมากที่สุด ช็อกโกแลต สตรอว์เบอร์รี่

ท่านชอบเครื่องดื่มรสชาติใด น้ำส้ม น้ामะนาว



ผู้ให้ข้อมูล

