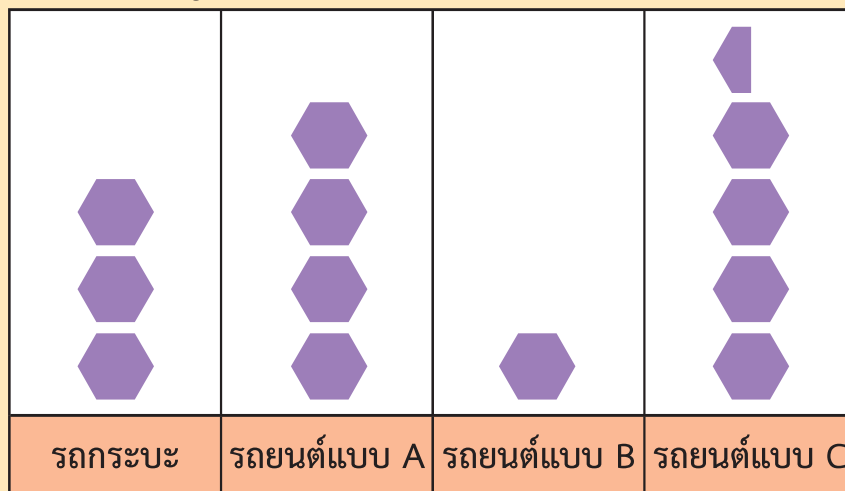



แบบฝึกหัด 6.2



พิจารณาแผนภูมิรูปภาพ และเขียนคำตอบในช่องว่าง

- 1) ศูนย์จำหน่ายรถแห่งหนึ่งขายรถภายในสามเดือน ได้ข้อมูลดังนี้

จำนวนรถที่ศูนย์จำหน่ายรถแห่งหนึ่งขายได้ภายในสามเดือน








กำหนดให้  แทนจำนวนรถ 30 คัน


-  แทนจำนวนรถ.....คัน
- ศูนย์จำหน่ายรถขาย.....ได้ 90 คันภายในสามเดือน
- ศูนย์จำหน่ายรถขาย.....ได้มากที่สุด และขาย.....ได้น้อยที่สุด
- ศูนย์จำหน่ายรถขายรถยนต์แบบ C ได้มากกว่า.....อยู่ 15 คัน
- ถ้าศูนย์จำหน่ายรถขายรถยนต์แบบ B ได้เพิ่มอีก 45 คัน ในแผนภูมิรูปภาพรถยนต์แบบ B ต้องเพิ่ม  จำนวน.....




2 จำนวนสัตว์ป่าชนิดต่าง ๆ ในสวนสัตว์แห่งหนึ่ง มีข้อมูลดังนี้

จำนวนสัตว์ป่าชนิดต่าง ๆ ในสวนสัตว์แห่งหนึ่ง

				
เสือ	กระทิง	หมี	กวาง	สิงโต

กำหนดให้  แทนจำนวนสัตว์ป่า 4 ตัว

- สวนสัตว์มีจำนวนสัตว์ป่าชนิดใดมากที่สุดและมีจำนวนกี่ตัว
.....
.....
- สวนสัตว์มีจำนวนสัตว์ป่าชนิดใต้น้อยที่สุดและมีจำนวนกี่ตัว
.....
.....
- สวนสัตว์ต้องนำสิงโตมาเพิ่มอีกกี่ตัวจึงจะมีจำนวนเท่ากับจำนวนเสือ
และในแผนภูมิรูปภาพจะต้องเพิ่มรูป  กี่รูป
.....
.....
- สวนสัตว์มีจำนวนกวางมากกว่าหรือน้อยกว่าจำนวนหมีอยู่เท่าไร
.....
.....
- จากแผนภูมิรูปภาพมีจำนวนสัตว์ป่าในสวนสัตว์ทั้งหมดกี่ตัว
.....
.....

