


แบบฝึกหัด 6.1

พิจารณาแผนภูมิรูปภาพ และเขียนคำตอบในช่องว่าง











- 1) เจ้าของร้านของเล่นบันทึกจำนวนของเล่นต่าง ๆ ที่ขายได้ในหนึ่งเดือน ดังนี้




- 1) แผนภูมิรูปภาพนี้แสดง
- 2) ของเล่นที่ขายได้มากที่สุด 3 อันดับ ได้แก่
- 3) ร้านของเล่นขาย ได้น้อยที่สุด จำนวน กล่อง
- 4) ถ้าขายรถของเล่นกล่องละ 85 บาท เจ้าของร้านของเล่นจะได้เงินทั้งหมด บาท
- 5) ถ้านักเรียนเป็นเจ้าของร้านของเล่นจากข้อมูลในแผนภูมิรูปภาพ นักเรียนจะซื้อของเล่นชนิดใดมาขายเพิ่มขึ้น เพราะเหตุใด

2 ขนมหวานต่าง ๆ ที่นักเรียนชั้น ป.3 ชื่นชอบ มีข้อมูลดังนี้

จำนวนนักเรียน ชั้น ป.3 ที่ชื่นชอบขนมหวานต่าง ๆ

				
				
ขนมเค้ก	ไอศกรีม	เยลลี่	ช็อกโกแลต	ขนมปัง

กำหนดให้  แทนจำนวนนักเรียน 10 คน

- จากแผนภูมิรูปภาพมีนักเรียนชั้น ป.3 ชื่นชอบช็อกโกแลต คน
- นักเรียนชั้น ป.3 ชื่นชอบ มากที่สุด และ น้อยที่สุด
- นักเรียนที่ชื่นชอบเยลลี่และ มีจำนวนเท่ากับนักเรียนที่ชื่นชอบ
.....
- นักเรียนชื่นชอบ มากกว่า อยู่ 15 คน
- ถ้าโรงเรียนจะจัดขนมหวานให้นักเรียนชั้น ป.3 ควรจัดขนมหวาน 3 อย่างนี้ ได้แก่
.....
.....
.....