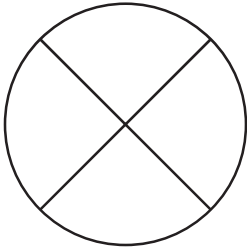
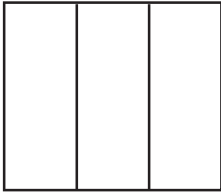
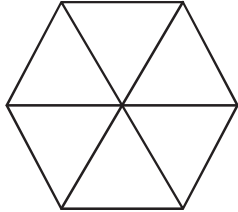
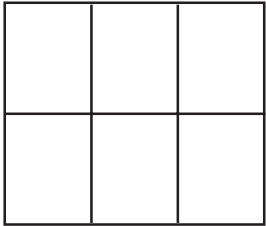
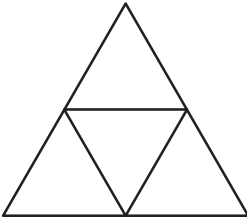


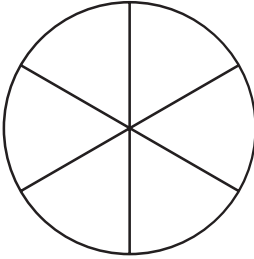
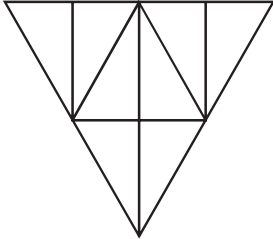

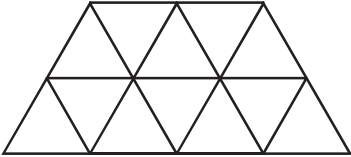
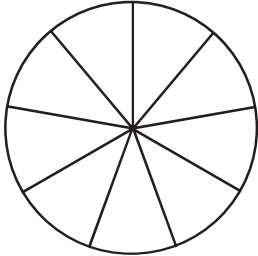


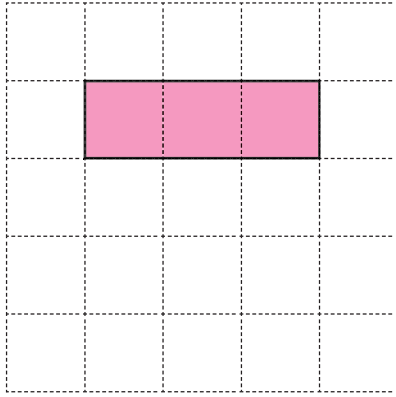
## แบบฝึกหัด 5.5

1) เลือกรูปภาพเพื่อระบายสีแสดงเศษส่วนที่กำหนด


1) $\frac{2}{3}$			
2) $\frac{3}{5}$			
3) $\frac{9}{9}$			
4) $\frac{7}{12}$			

## 2 เขียนรูปที่แสดง 1 หน่วย

1) ถ้าส่วนที่ระบายแสดง  $\frac{1}{3}$  ของ 1 หน่วย รูปที่แสดง 1 หน่วยจะเป็นอย่างไร

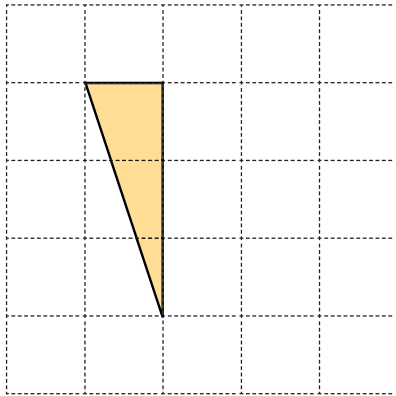


แสดง  $\frac{1}{3}$  ของ 1 หน่วย




แสดง 1 หน่วย

2) ถ้าส่วนที่ระบายแสดง  $\frac{1}{6}$  ของ 1 หน่วย รูปที่แสดง 1 หน่วยจะเป็นอย่างไร



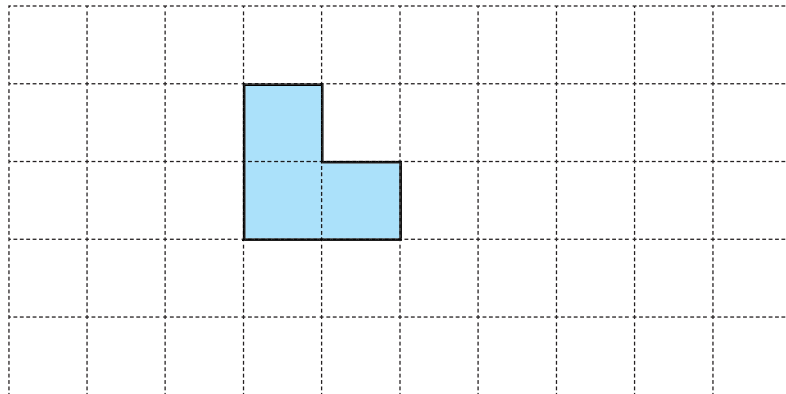
แสดง  $\frac{1}{6}$  ของ 1 หน่วย



แสดง 1 หน่วย



3) ถ้าส่วนที่ระบายแสดง  $\frac{1}{4}$  ของ 1 หน่วย รูปที่แสดง 1 หน่วยจะเป็นอย่างไร



4) ถ้าส่วนที่ระบายแสดง  $\frac{2}{6}$  ของ 1 หน่วย รูปที่แสดง 1 หน่วยจะเป็นอย่างไร

