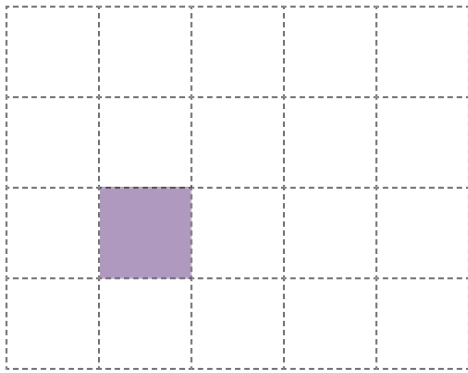

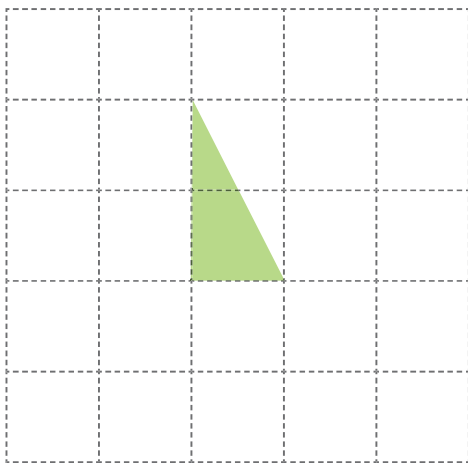



ใบกิจกรรม 5.3

เขียนรูปที่แสดง 1 หน่วย

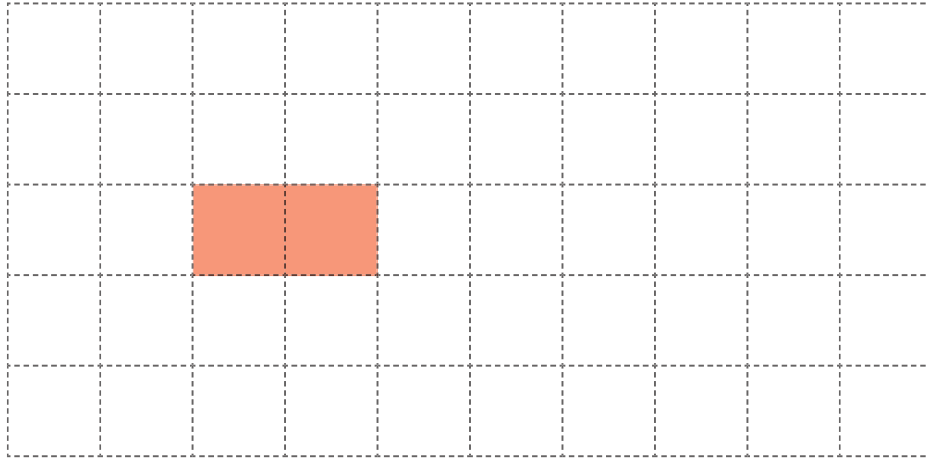
1) ถ้าส่วนที่ระบายแสดง $\frac{1}{2}$ ของ 1 หน่วย รูปที่แสดง 1 หน่วยจะเป็นอย่างไรแสดง $\frac{1}{2}$ ของ 1 หน่วย

แสดง 1 หน่วย

2) ถ้าส่วนที่ระบายแสดง $\frac{1}{2}$ ของ 1 หน่วย รูปที่แสดง 1 หน่วยจะเป็นอย่างไรแสดง $\frac{1}{2}$ ของ 1 หน่วย

แสดง 1 หน่วย

3) ถ้าส่วนที่ระบายแสดง $\frac{1}{4}$ ของ 1 หน่วย รูปที่แสดง 1 หน่วยจะเป็นอย่างไร



แสดง 1 หน่วย

4) ถ้าส่วนที่ระบายแสดง $\frac{1}{3}$ ของ 1 หน่วย รูปที่แสดง 1 หน่วยจะเป็นอย่างไร



แสดง 1 หน่วย

