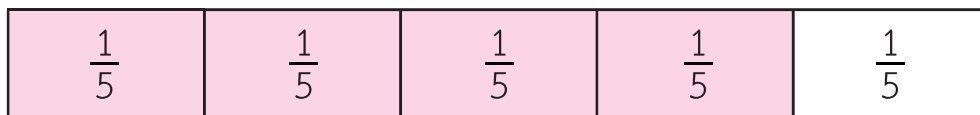


## แบบฝึกหัด 5.4

- 1 เขียนเศษส่วนแสดงปริมาณของแต่ละส่วน ระบายสีแถบกระดาษแสดงเศษส่วนที่นักเรียนกำหนด เขียนเศษส่วนแสดงส่วนที่ระบายสี และเขียนคำอ่าน

## ตัวอย่าง



ส่วนที่ระบายสีแสดง  $\frac{4}{5}$  อ่านว่า เศษสี่ส่วนห้า

1)



ส่วนที่ระบายสีแสดง .....

2)

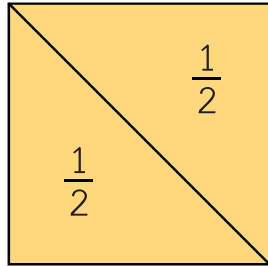


ส่วนที่ระบายสีแสดง .....



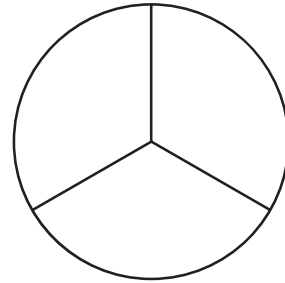
2 เขียนเศษส่วนแสดงปริมาณของแต่ละส่วน ระบายสีแสดงเศษส่วนที่เท่ากับ 1 หน่วย พร้อมเขียนเศษส่วนที่เท่ากับ 1 หน่วย

ตัวอย่าง



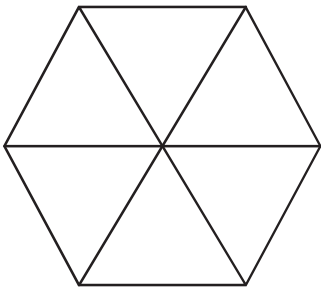
ส่วนที่ระบายสีแสดง  $\frac{2}{2} = 1$

1)



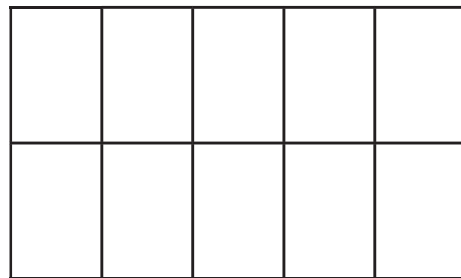
ส่วนที่ระบายสีแสดง .....

2)



ส่วนที่ระบายสีแสดง .....

3)



ส่วนที่ระบายสีแสดง .....

