
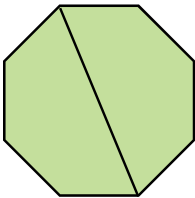
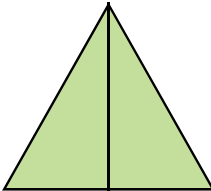
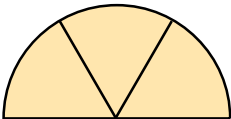

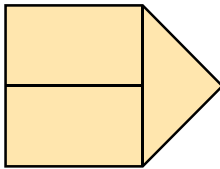
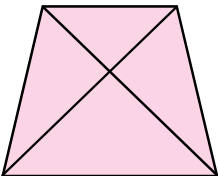
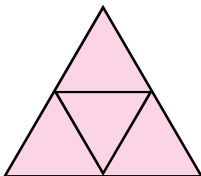
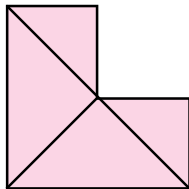
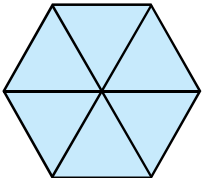
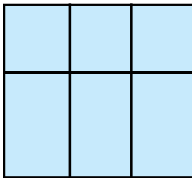
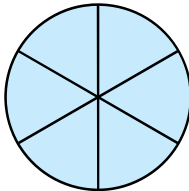


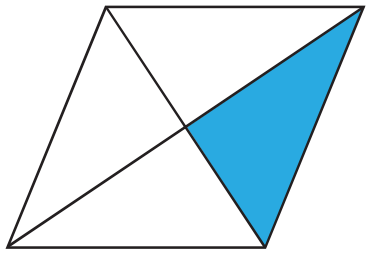

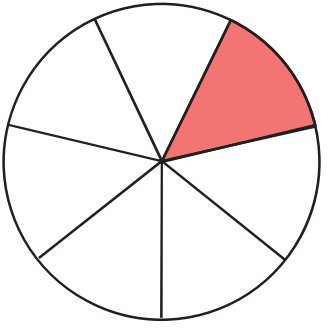
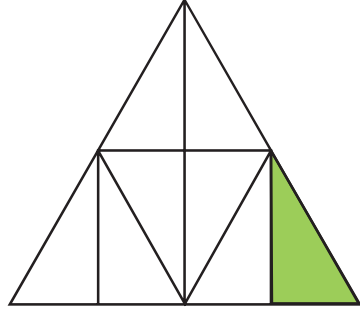

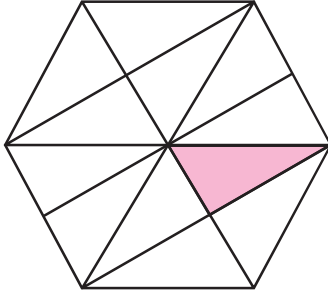
แบบฝึกหัด 5.2

1) เขียนวงล้อมรอบภาพที่แต่ละส่วนของภาพแสดงจำนวนที่กำหนด

1) $\frac{1}{2}$			
2) $\frac{1}{3}$			
3) $\frac{1}{4}$			
4) $\frac{1}{6}$			



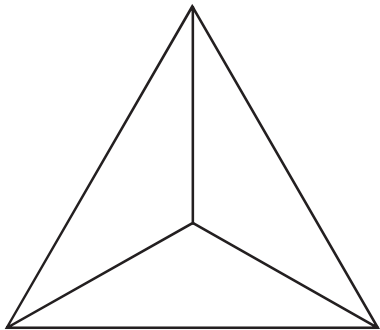
2 เขียนเศษส่วนแสดงส่วนที่ระบายสี พร้อมเขียนคำอ่าน

<p>1)</p>  <p><input type="text"/> อ่านว่า</p>	<p>2)</p>  <p><input type="text"/> อ่านว่า</p>
<p>3)</p>  <p><input type="text"/> อ่านว่า</p>	<p>4)</p>  <p><input type="text"/> อ่านว่า</p>
<p>5)</p>  <p><input type="text"/> อ่านว่า</p>	<p>6)</p>  <p><input type="text"/> อ่านว่า</p>



3 ระบายสีแสดงเศษส่วนที่กำหนด พร้อมบอกตัวเศษและตัวส่วน


1) $\frac{1}{3}$



ตัวเศษ คือ

ตัวส่วน คือ

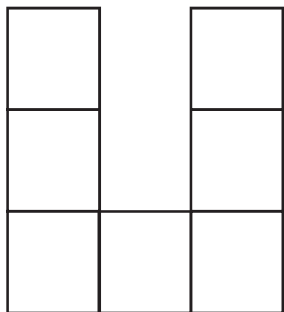
2) $\frac{1}{6}$



ตัวเศษ คือ

ตัวส่วน คือ

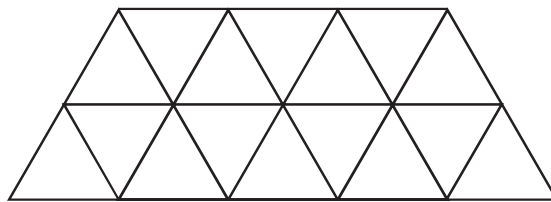
3) $\frac{1}{7}$



ตัวเศษ คือ

ตัวส่วน คือ

4) $\frac{1}{16}$



ตัวเศษ คือ

ตัวส่วน คือ



4 เขียนเศษส่วนแสดงปริมาณของแต่ละส่วน

