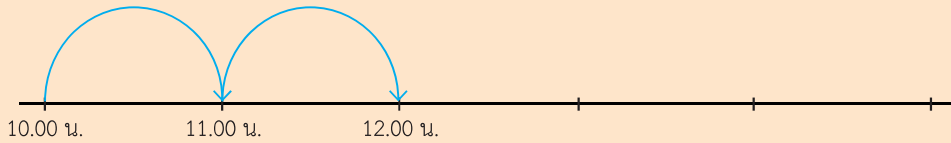


ใบกิจกรรม 4.8

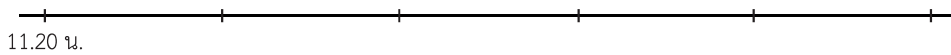
1 เขียนคำตอบลงในช่องว่าง

ตัวอย่าง

เริ่มว่ายน้ำเวลา 10.00 น. ใช้เวลาว่ายน้ำ 2 ชั่วโมง ว่ายน้ำเสร็จเวลา



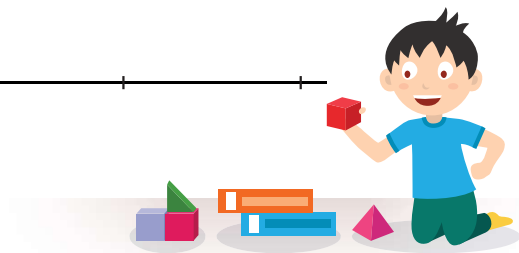
- 1) เริ่มอ่านหนังสือเวลา 11.20 น. ใช้เวลาอ่านหนังสือ 3 ชั่วโมง
อ่านหนังสือถึงเวลา



- 2) ออกจากบ้านเวลา 15.10 น. ใช้เวลาขับรถ 4 ชั่วโมง
ถึงที่หมายเวลา



- 3) เริ่มวาดรูปเวลา 10.15 น. ใช้เวลาวาดรูป 1 ชั่วโมง 30 นาที
วาดรูปถึงเวลา




๒ ขีดเส้นใต้ส่วนที่โจทย์บอก วงกลมล้อมรอบส่วนที่โจทย์ถาม และเขียนคำตอบลงในช่องว่าง

เพชรเริ่มซ้อมบาสเกตบอลเวลา 7 นาฬิกา 40 นาฬิกา
ใช้เวลา 2 ชั่วโมง 45 นาที เพชรเลิกซ้อมบาสเกตบอลเวลาเท่าไร



เขียนเส้นจำนวนนำเสนอแนวคิด



วิธีทำ

.....

.....

.....

.....

.....

.....

.....

.....

.....

.....

ตอบ

.....

.....

