

แบบฝึกหัด 4.2

1 เขียนคำตอบในช่องว่าง

ตัวอย่าง



กลางวัน 16 นาฬิกา 40 นาที หรือ
16.40 น. (16:40 น.)

กลางคืน 4 นาฬิกา 40 นาที หรือ
4.40 น. (4:40 น.)

1)



กลางวัน หรือ
.....

กลางคืน หรือ
.....

2)



กลางวัน หรือ
.....

กลางคืน หรือ
.....









3)



กลางวัน หรือ
.....

กลางคืน หรือ
.....

2 เขียนเข็มนาฬิกาบนหน้าปัดนาฬิกาให้ตรงกับเวลาที่กำหนด

กลางวัน	กลางคืน
 <p>6.25 น.</p>	 <p>19.35 น.</p>
 <p>15.10 น.</p>	 <p>0.55 น.</p>
 <p>12.35 น.</p>	 <p>0:05 น.</p>
 <p>14:30 น.</p>	 <p>19.55 น.</p>

3 เขียนบอกเวลาโดยใช้จุดมหัพภาค (.)

เวลา	เขียนบอกเวลาที่มีมหัพภาค (.)
20 นาฬิกา 20 นาที	20.20 น.
22 นาฬิกา	
9 นาฬิกา 45 นาที	
6 นาฬิกา 10 นาที	
18 นาฬิกา 50 นาที	
14 นาฬิกา 20 นาที	
20 นาฬิกา 5 นาที	

4 เขียนคำอ่านเวลาต่อไปนี้

เวลา	เขียนคำอ่านเวลา
11:00 น.	11 นาฬิกา
7:00 น.	
16:30 น.	
9:05 น.	
0:45 น.	

