

แบบฝึกหัด 4.1

1 เขียนบอกเวลาเป็นนาฬิกาทั้งกลางวันและกลางคืน

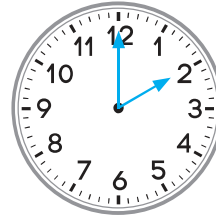
1)



กลางวัน

กลางคืน

2)



กลางวัน

กลางคืน

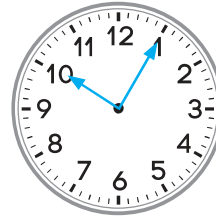
3)



กลางวัน

กลางคืน

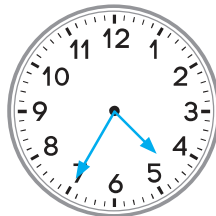
4)



กลางวัน

กลางคืน

5)



กลางวัน

กลางคืน




2 เขียนเข็มนาฬิกาหน้าปัดนาฬิกาให้ตรงกับเวลาที่กำหนด

ตัวอย่าง




8 นาฬิกา 7 นาที



9 นาฬิกา 13 นาที




11 นาฬิกา 33 นาที



21 นาฬิกา 15 นาที




14 นาฬิกา 47 นาที



12 นาฬิกา 23 นาที



16 นาฬิกา 50 นาที



00 นาฬิกา 28 นาที