


แบบฝึกหัด 3.4

1 เขียน ✓ ใน ถ้าเป็นรูปที่มีแกนสมมาตร ลากเส้นประแสดงแกนสมมาตร แล้วเขียนจำนวนแกนสมมาตร

1)

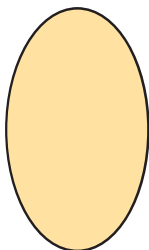


รูปที่มีแกนสมมาตร

มีแกนสมมาตร แกน

รูปที่ไม่มีแกนสมมาตร

2)



รูปที่มีแกนสมมาตร

มีแกนสมมาตร แกน

รูปที่ไม่มีแกนสมมาตร

3)

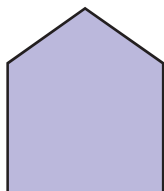


รูปที่มีแกนสมมาตร

มีแกนสมมาตร แกน

รูปที่ไม่มีแกนสมมาตร


4)

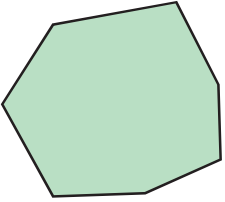
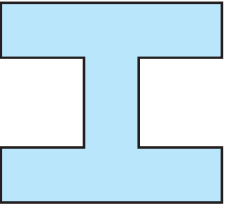




รูปที่มีแกนสมมาตร

มีแกนสมมาตร แกน

รูปที่ไม่มีแกนสมมาตร

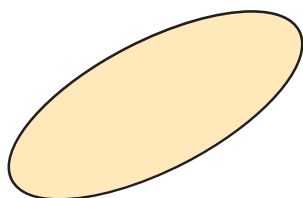


<p>5)</p>		<p><input type="checkbox"/> รูปที่มีแกนสมมาตร มีแกนสมมาตร แกน</p> <p><input type="checkbox"/> รูปที่ไม่มีแกนสมมาตร</p>
<p>6)</p>		<p><input type="checkbox"/> รูปที่มีแกนสมมาตร มีแกนสมมาตร แกน</p> <p><input type="checkbox"/> รูปที่ไม่มีแกนสมมาตร</p>
<p>7)</p>		<p><input type="checkbox"/> รูปที่มีแกนสมมาตร มีแกนสมมาตร แกน</p> <p><input type="checkbox"/> รูปที่ไม่มีแกนสมมาตร</p>
<p>8)</p>		<p><input type="checkbox"/> รูปที่มีแกนสมมาตร มีแกนสมมาตร แกน</p> <p><input type="checkbox"/> รูปที่ไม่มีแกนสมมาตร</p>



2 เขียนเส้นประแสดงแกนสมมาตรและเขียนจำนวนแกนสมมาตรของรูป

1)



จำนวนแกนสมมาตร แกน

2)



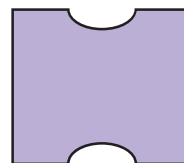
จำนวนแกนสมมาตร แกน

3)



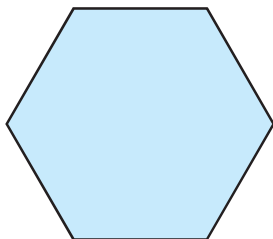
จำนวนแกนสมมาตร แกน

4)



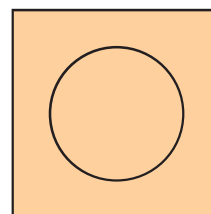
จำนวนแกนสมมาตร แกน

5)



จำนวนแกนสมมาตร แกน

6)



จำนวนแกนสมมาตร แกน




7)



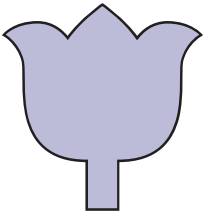
จำนวนแกนสมมาตร แกน

8)




จำนวนแกนสมมาตร แกน

9)



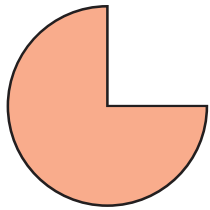
จำนวนแกนสมมาตร แกน

10)



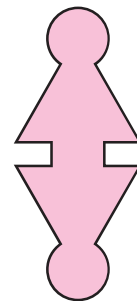
จำนวนแกนสมมาตร แกน

11)



จำนวนแกนสมมาตร แกน

12)



จำนวนแกนสมมาตร แกน

