


## ใบกิจกรรม 2.4

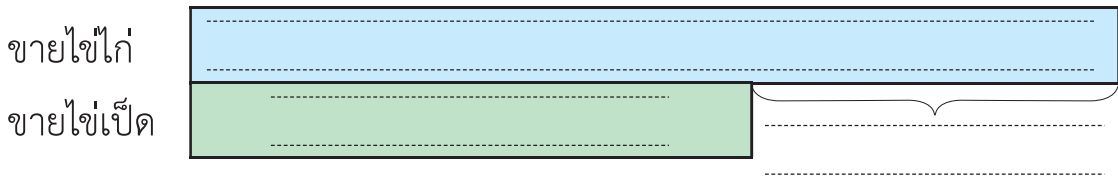
เขียนวงล้อมรอบส่วนที่โจทย์ถาม ชีดเส้นใต้ส่วนที่โจทย์บอก และเขียนคำตอบในช่องว่าง

1

ฟาร์มแห่งหนึ่งขายไข่ไก่ได้ 27,100 ฟอง ขายไข่เป็ดได้น้อยกว่าไข่ไก่ 14,280 ฟอง ฟาร์มแห่งนี้ขายไข่เป็ดได้กี่ฟอง



ภาพแสดงแนวคิด



ประโยคสัญลักษณ์


วิธีทำ	ขายไข่ไก่ได้	ฟอง
	ขายไข่เป็ดได้น้อยกว่าไข่ไก่	ฟอง
	ขายไข่เป็ด	ฟอง

ตอบ

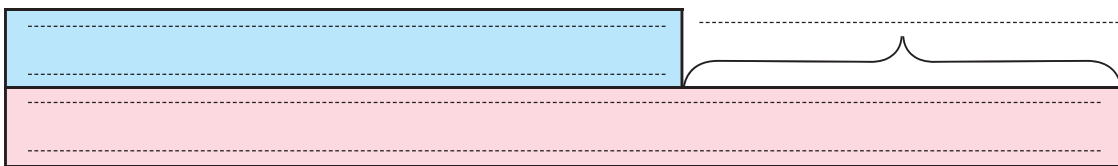


2

โรงงานผลิตน้ำขายน้ำขวดเล็กได้ 45,070 ขวด  
 ขายน้ำขวดเล็กได้น้อยกว่าน้ำขวดใหญ่ 16,572 ขวด  
 โรงงานขายน้ำขวดใหญ่ได้กี่ขวด



ภาพแสดงแนวคิด



ประโยคสัญลักษณ์

วิธีทำ	ขายน้ำขวดเล็กได้	.....	ขวด
	ขายน้ำขวดเล็กได้น้อยกว่าน้ำขวดใหญ่	.....	ขวด
	ขายน้ำขวดใหญ่ได้	.....	ขวด

ตอบ



3

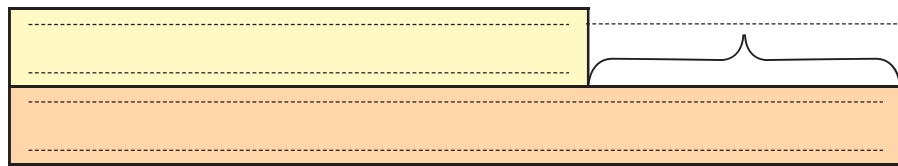
โรงงานผลิตนาฬิกาส่งนาฬิกาไปขายที่ภาคเหนือ 27,630 เรือน  
 ส่งนาฬิกาไปขายที่ภาคใต้น้อยกว่าภาคใต้ 19,850 เรือน  
 โรงงานแห่งนี้ส่งนาฬิกาไปขายที่ภาคใตกี่เรือน



ภาพแสดงแนวคิด

ขายภาคเหนือ

ขายภาคใต้



ประโยคสัญลักษณ์

วิธีทำ

ตอบ

