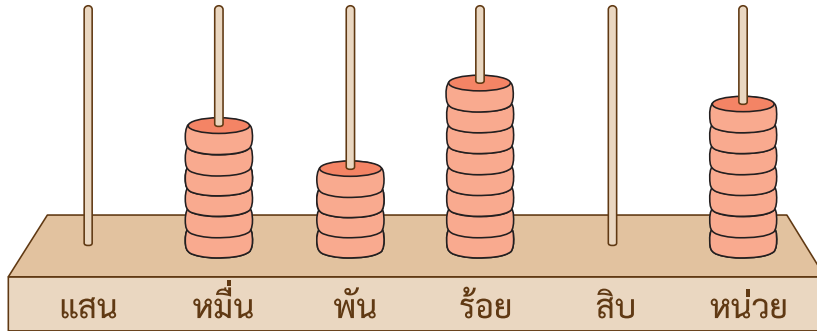


แบบฝึกหัด 1.4

1 เขียนคำตอบในช่องว่าง

1)



เขียนหลักและค่าของเลขโดดในแต่ละหลัก

6	อยู่ในหลัก	มีค่า
4	อยู่ในหลัก	มีค่า
8	อยู่ในหลัก	มีค่า
0	อยู่ในหลัก	มีค่า
7	อยู่ในหลัก	มีค่า

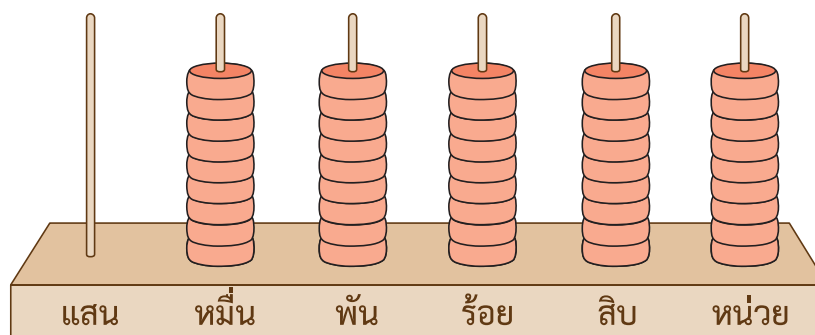
เขียนในรูปกระจาย

64,807 =

หรือ 64,807 =



2)




เขียนหลักและค่าของเลขโดดในแต่ละหลัก

9	อยู่ในหลัก	มีค่า
9	อยู่ในหลัก	มีค่า
9	อยู่ในหลัก	มีค่า
9	อยู่ในหลัก	มีค่า
9	อยู่ในหลัก	มีค่า

เขียนในรูปกระจาย

$$99,999 = \text{.....}$$



2 เขียนคำตอบในช่องว่าง

1) 10,247

เขียนเลขโดดในตารางหลักเลข

หลักหมื่น	หลักพัน	หลักร้อย	หลักสิบ	หลักหน่วย
.....


เขียนหลักและค่าของเลขโดดในแต่ละหลัก

1	อยู่ในหลัก	มีค่า
0	อยู่ในหลัก	มีค่า
2	อยู่ในหลัก	มีค่า
4	อยู่ในหลัก	มีค่า
7	อยู่ในหลัก	มีค่า

เขียนในรูปกระจาย

10,247 =

หรือ 10,247 =



2) 40,924

เขียนเลขโดดในตารางหลักเลข

หลักหมื่น	หลักพัน	หลักร้อย	หลักสิบ	หลักหน่วย
.....


เขียนหลักและค่าของเลขโดดในแต่ละหลัก

4	อยู่ในหลัก	มีค่า
0	อยู่ในหลัก	มีค่า
9	อยู่ในหลัก	มีค่า
2	อยู่ในหลัก	มีค่า
4	อยู่ในหลัก	มีค่า

เขียนในรูปกระจาย

40,924 =

หรือ 40,924 =



3) 90,002

เขียนเลขโดดในตารางหลักเลข

หลักหมื่น	หลักพัน	หลักร้อย	หลักสิบ	หลักหน่วย
.....

เขียนหลักและค่าของเลขโดดในแต่ละหลัก

9	อยู่ในหลัก	มีค่า
0	อยู่ในหลัก	มีค่า
0	อยู่ในหลัก	มีค่า
0	อยู่ในหลัก	มีค่า
2	อยู่ในหลัก	มีค่า

เขียนในรูปกระจาย

90,002 =

หรือ 90,002 =



4) 100,000

เขียนเลขโดดในตารางหลักเลข

หลักแสน	หลักหมื่น	หลักพัน	หลักร้อย	หลักสิบ	หลักหน่วย
.....

เขียนหลักและค่าของเลขโดดในแต่ละหลัก

1	อยู่ในหลัก	มีค่า
0	อยู่ในหลัก	มีค่า
0	อยู่ในหลัก	มีค่า
0	อยู่ในหลัก	มีค่า
0	อยู่ในหลัก	มีค่า
0	อยู่ในหลัก	มีค่า

