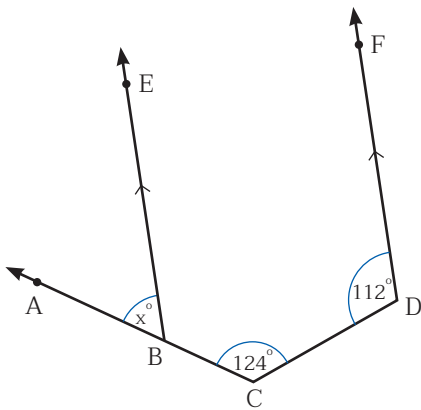
 **แบบฝึกหัด 4 : การแก้ปัญหาเกี่ยวกับเส้นขนาน**

ชื่อ-สกุล ชั้น ม.2/..... เลขที่.....

ชื่อ-สกุล ชั้น ม.2/..... เลขที่.....

คำชี้แจง ให้นักเรียนเขียนแสดงแนวคิดเพื่อหาค่าที่โจทย์ต้องการทราบให้สมบูรณ์

1. จากรูป $\overrightarrow{BE} \parallel \overrightarrow{DF}$ จงหาค่าของ x



วิธีทำ.....

.....

.....

.....

.....

.....

.....

.....

.....

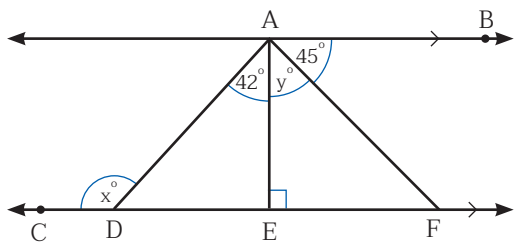
.....

.....



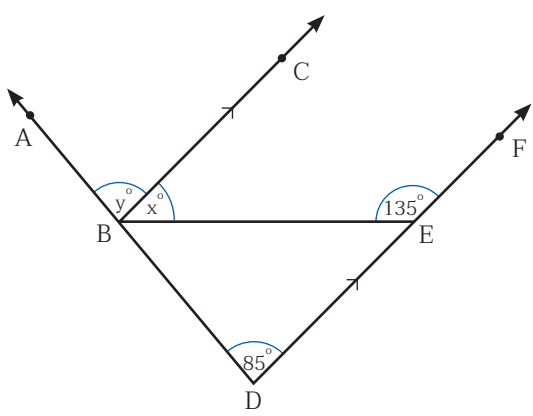
หน่วยการเรียนรู้ที่ 10 เส้นนี้ที่คู่กัน

2. จากรูป $\overleftrightarrow{AB} \parallel \overleftrightarrow{CF}$ จงหาค่าของ $x + y$



วิธีทำ.....

3. จากรูป $\overleftrightarrow{BC} \parallel \overleftrightarrow{DF}$ จงหาค่าของ $2x - y$

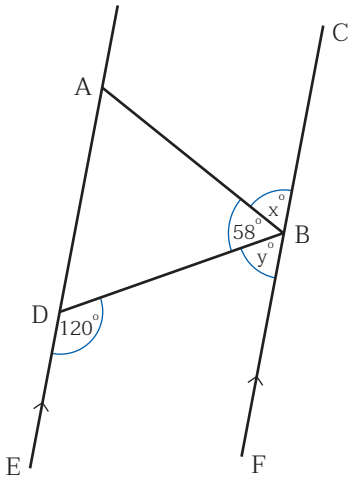


วิธีทำ.....



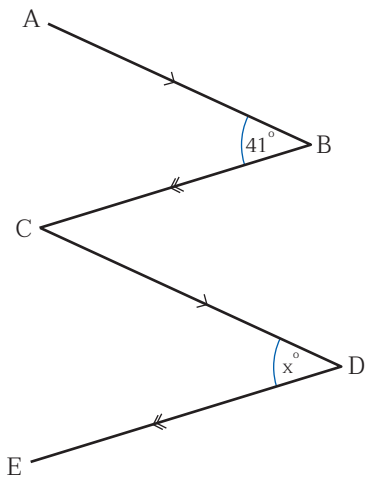
หน่วยการเรียนรู้ที่ 10 เส้นนี้ที่คู่กัน

4. จากรูป $\overline{AE} \parallel \overline{CF}$ จงหาค่าของ $2(x - y)$



วิธีทำ.....

5. จากรูป $\overline{AB} \parallel \overline{CD}$ และ $\overline{BC} \parallel \overline{DE}$ จงหาค่าของ x



วิธีทำ.....

