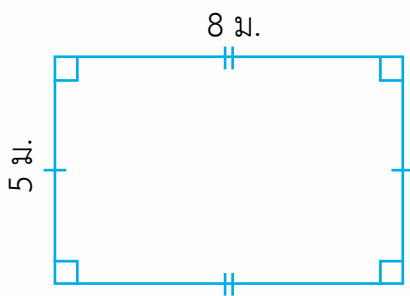


แบบฝึกหัด 5.24

1. คำตอบ

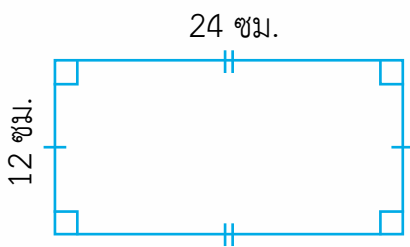
1)



ห้องกว้าง 5 เมตร ยาว 8 เมตร  
ห้องนี้มีพื้นที่กี่ตารางเมตร

ตอบ ห้องนี้มีพื้นที่ ..... ตารางเมตร

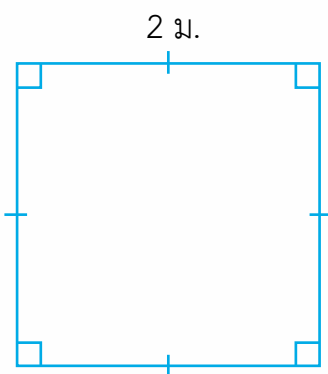
2)



ช่องจดหมายกว้าง 12 เซนติเมตร  
ยาว 24 เซนติเมตร  
ช่องจดหมายมีพื้นที่  
กี่ตารางเซนติเมตร

ตอบ ช่องจดหมายมีพื้นที่ ..... ตารางเซนติเมตร

3)

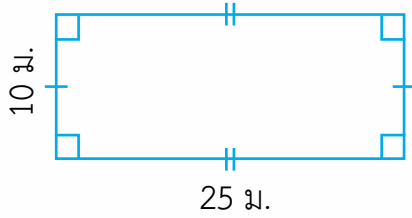


ป้ายโฆษณาเป็นรูปสี่เหลี่ยมจัตุรัส  
มีด้านยาวด้านละ 2 เมตร  
ป้ายโฆษณามีพื้นที่กี่ตารางเมตร

ตอบ ป้ายโฆษณามีพื้นที่ ..... ตารางเมตร



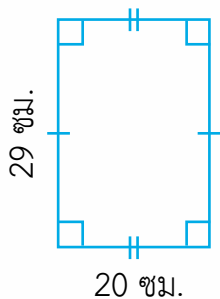
4)



สนามหญ้ารูปสี่เหลี่ยมผืนผ้า  
กว้าง 10 เมตร ยาว 25 เมตร  
สนามหญ้ามี่พื้นที่กี่ตารางเมตร

ตอบ สนามหญ้ามี่พื้นที่ ..... ตารางเมตร

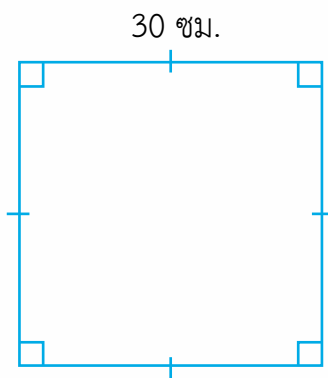
5)



หน้าปกหนังสือคณิตศาสตร์  
กว้าง 20 เซนติเมตร ยาว 29 เซนติเมตร  
หน้าปกหนังสือมีพื้นที่กี่ตารางเซนติเมตร

ตอบ หน้าปกหนังสือคณิตศาสตร์มีพื้นที่ ..... ตารางเซนติเมตร

6)

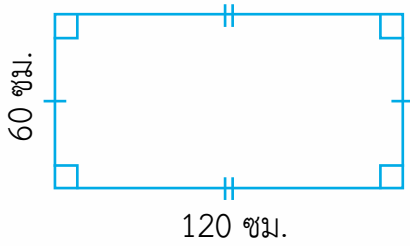


ผ้าเช็ดหน้ารูปสี่เหลี่ยมจัตุรัส  
มีด้านยาวด้านละ 30 เซนติเมตร  
ผ้าเช็ดหน้ามีพื้นที่กี่ตารางเซนติเมตร

ตอบ ผ้าเช็ดหน้ามีพื้นที่ ..... ตารางเซนติเมตร



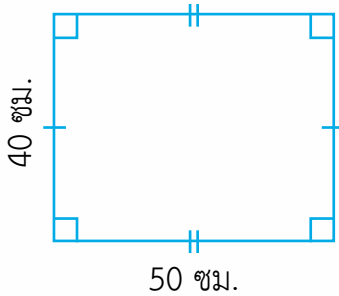
7)



ผ้าขาวม้ากว้าง 60 เซนติเมตร  
ยาว 120 เซนติเมตร  
ผ้าขาวม้ามีพื้นที่กี่ตารางเซนติเมตร

ตอบ ผ้าขาวม้ามีพื้นที่ ..... ตารางเซนติเมตร

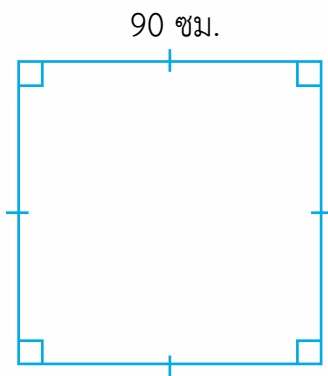
8)



พินโต๊ะเรียนกว้าง 40 เซนติเมตร  
ยาว 50 เซนติเมตร  
พินโต๊ะมีพื้นที่กี่ตารางเซนติเมตร

ตอบ พินโต๊ะมีพื้นที่ ..... ตารางเซนติเมตร

9)



ผ้าปูโต๊ะรูปสี่เหลี่ยมจัตุรัส  
มีด้านยาวด้านละ 90 เซนติเมตร  
ผ้าปูโต๊ะมีพื้นที่กี่ตารางเซนติเมตร

ตอบ ผ้าปูโต๊ะมีพื้นที่ ..... ตารางเซนติเมตร



2. แสดงวิธีทำ

1) ฝากล่องรูปสี่เหลี่ยมมุมฉากกว้าง 12 เซนติเมตร ยาว 15 เซนติเมตร  
ฝากล่องใบนี้มีพื้นที่กี่ตารางเซนติเมตร

.....

.....

.....

.....

.....

2) สนามรูปสี่เหลี่ยมมุมฉากกว้าง 24 เมตร ยาว 35 เมตร สนามนี้มีพื้นที่  
กี่ตารางเมตร

.....

.....

.....

.....

.....



3) โตะรูปสี่เหลี่ยมมุมฉากมีความยาวด้านละ 50 เซนติเมตร พื้นโตะตัวนี้มีพื้นที่เท่าไร

.....

.....

.....

.....

.....

4) ซื่อที่ดินปลูกบ้านเป็นรูปสี่เหลี่ยมมุมฉากมีความยาวด้านละ 20 เมตร ที่ดินผืนนี้มีพื้นที่เท่าไร

.....

.....

.....

.....

.....

