


แบบฝึกหัด 5.16

1. โยงเส้นจับคู่รูปและพื้นที่ที่ถูกต้อง กำหนดให้ แทนพื้นที่ 1 ตารางหน่วย

1)  ● ● พื้นที่ 5 ตารางหน่วย

2)  ● ● พื้นที่ 9 ตารางหน่วย

3)  ● ● พื้นที่ 4 ตารางหน่วย

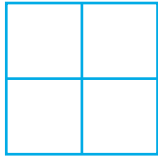
4)  ● ● พื้นที่ 3 ตารางหน่วย

5)  ● ● พื้นที่ 7 ตารางหน่วย



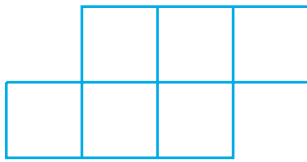
2. หาพื้นที่ของรูปต่อไปนี้ กำหนดให้  แทนพื้นที่ 1 ตารางหน่วย

1)



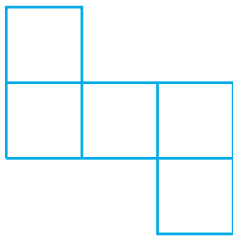
มีพื้นที่.....ตารางหน่วย

2)



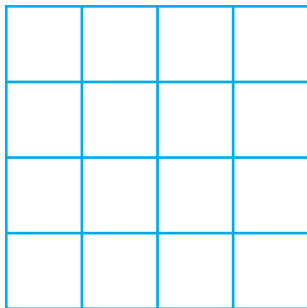
มีพื้นที่.....ตารางหน่วย

3)




มีพื้นที่.....ตารางหน่วย

4)



มีพื้นที่.....ตารางหน่วย

5)



มีพื้นที่.....ตารางหน่วย

