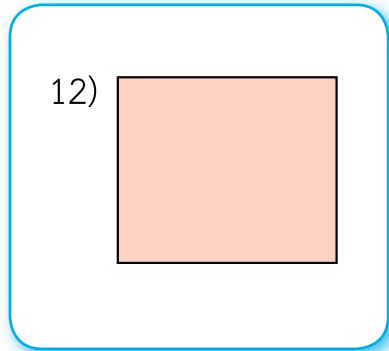
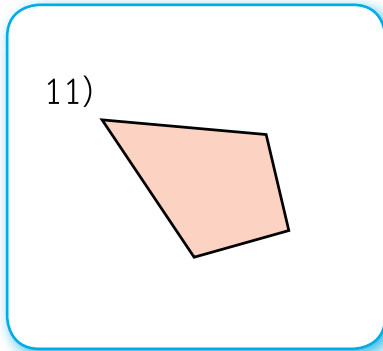
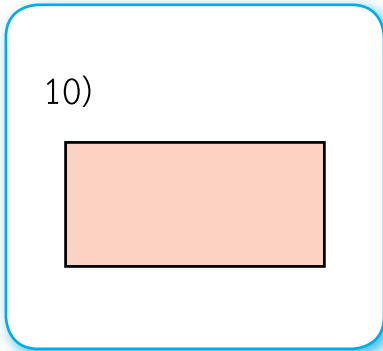
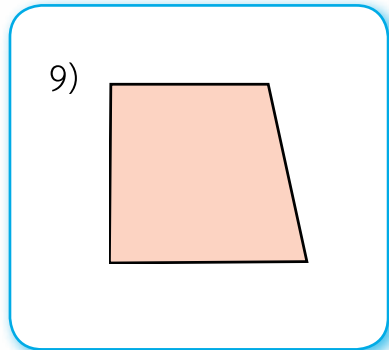
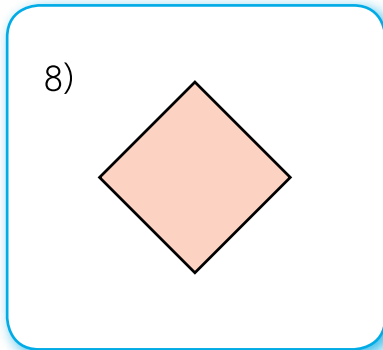
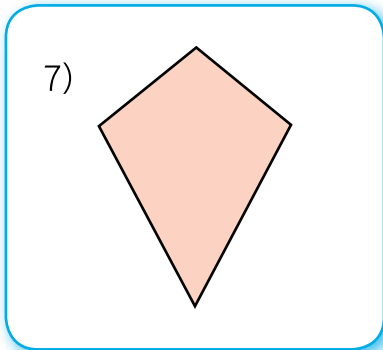
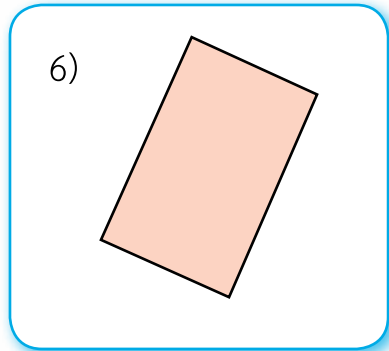
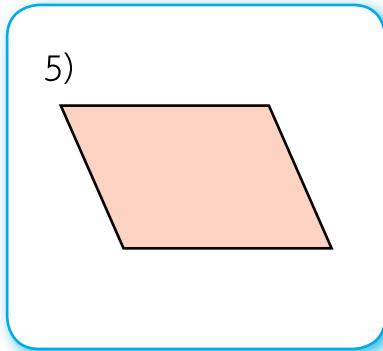
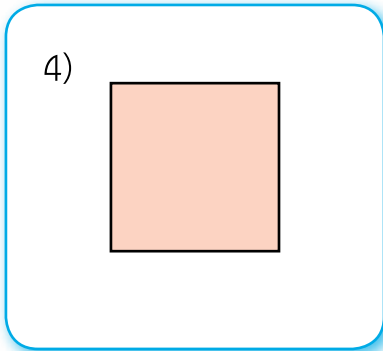
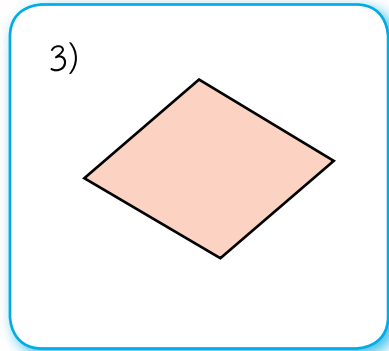
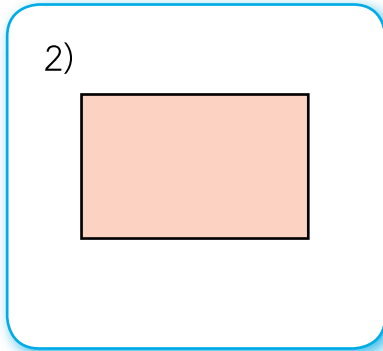
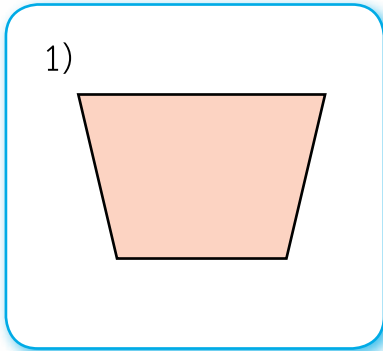


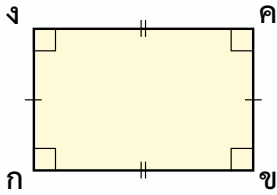
แบบฝึกหัด 5.10

1. เขียนเครื่องหมาย ✓ ที่รูปสี่เหลี่ยมมุมฉาก



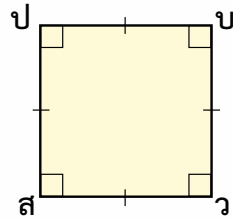
2. รูปสี่เหลี่ยมต่อไปนี้เป็นรูปสี่เหลี่ยมชนิดใด

ตัวอย่าง



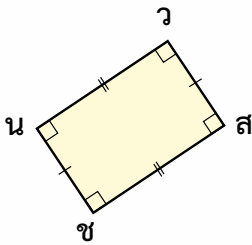
รูปสี่เหลี่ยม กขคก
เป็นรูปสี่เหลี่ยมผืนผ้า

1)



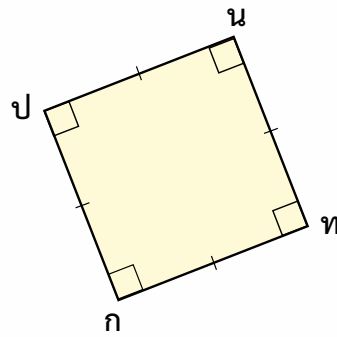
รูปสี่เหลี่ยม สวบป

2)



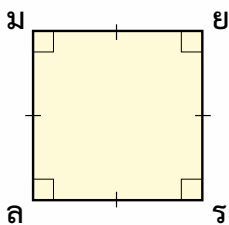
รูปสี่เหลี่ยม ชสวณ

3)



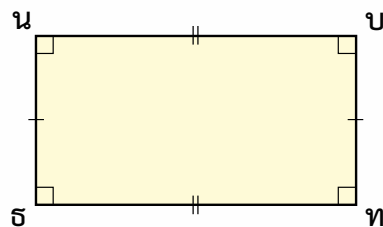
รูปสี่เหลี่ยม กทนป

4)



รูปสี่เหลี่ยม มยรล

5)

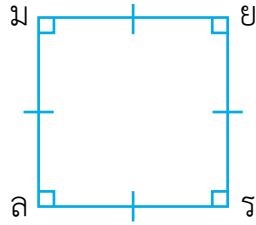


รูปสี่เหลี่ยม นบทฐ



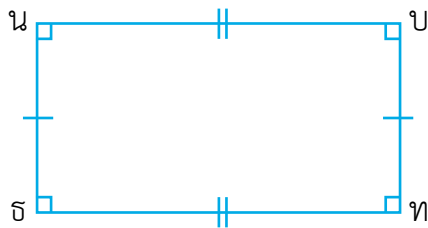
3. เติมคำตอบ

1)



- ก. รูปสี่เหลี่ยม มยรล มีมุมทุกมุมเป็นมุม.....
- ข. รูปสี่เหลี่ยม มยรล มีด้านยาวเท่ากัน.....ด้าน
ได้แก่ด้าน..... ด้าน..... ด้าน..... ด้าน.....
- ค. รูปสี่เหลี่ยม มยรล เป็นรูปสี่เหลี่ยม.....

2)



- ก. รูปสี่เหลี่ยม นบทฐ มีมุมทุกมุมเป็นมุม.....
- ข. ด้าน ฐท เป็นด้าน..... ยาวเท่ากับด้าน.....
- ค. ด้าน ฐน เป็นด้าน..... ยาวเท่ากับด้าน.....
- ง. ฐท และ ฐน ยาว.....
- จ. รูปสี่เหลี่ยม นบทฐ เป็นรูปสี่เหลี่ยม.....



3) รูปสี่เหลี่ยมมุมฉากที่มีด้านยาวเท่ากันทั้ง 4 ด้าน เรียกว่า รูปสี่เหลี่ยม

.....

4) รูปสี่เหลี่ยมมุมฉากที่มีด้านตรงข้ามยาวเท่ากัน แต่ด้านที่อยู่ติดกันยาวไม่เท่ากัน เรียกว่ารูปสี่เหลี่ยม.....

