

ใบกิจกรรม 2.13



1 เขียนคำตอบในช่องว่าง

ร้านขายส่งเสื้อผ้า

 <p>สินค้าหมายเลข 1</p>	 <p>สินค้าหมายเลข 2</p>	 <p>สินค้าหมายเลข 3</p>
 <p>สินค้าหมายเลข 4</p>	 <p>สินค้าหมายเลข 5</p>	 <p>สินค้าหมายเลข 6</p>

สถานการณ์ที่ 1

เมื่อวานนี้ร้านค้าขายสินค้าหมายเลข 1 ได้เงิน บาท
 และขายสินค้าหมายเลข 2 ได้ 18 ตัว ราคาตัวละ บาท
 ร้านค้าขายสินค้าหมายเลข 1 และสินค้าหมายเลข 2 ได้เงิน บาท
 ประโยคสัญลักษณ์

สถานการณ์ที่ 2

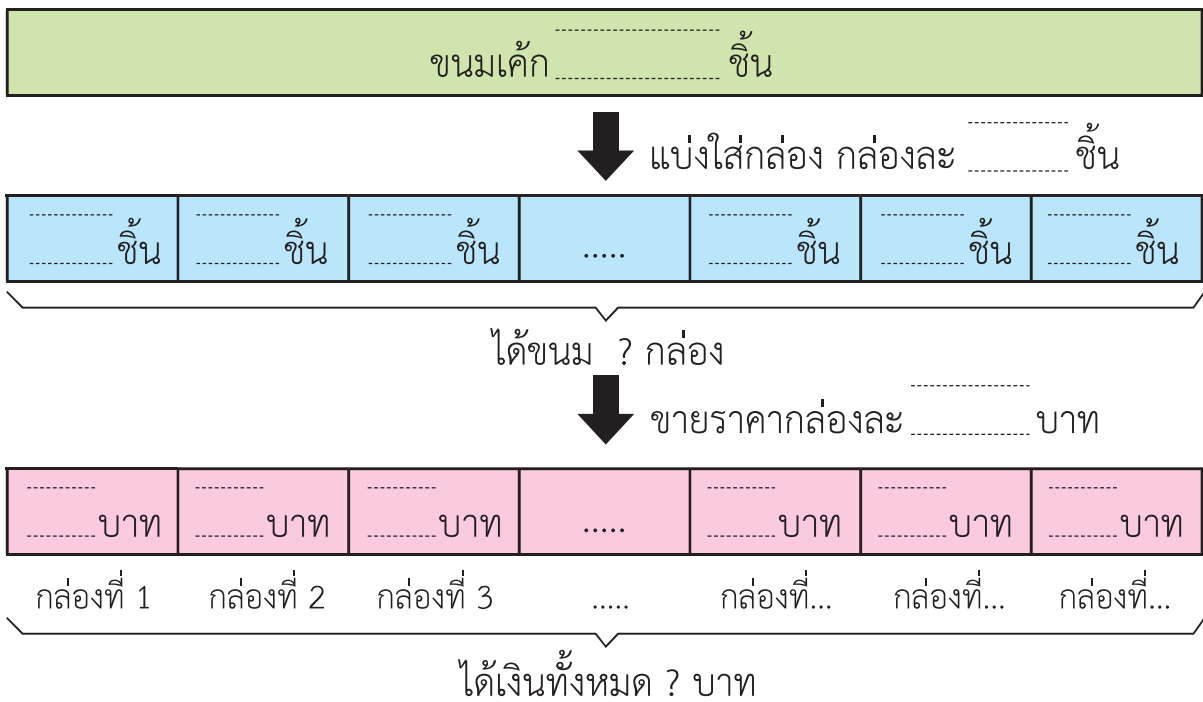
จินดา มีเงิน บาท ซื้อสินค้าหมายเลข จำนวน 12 ตัว
 ราคาตัวละ บาท จินดาเหลือเงิน บาท
 ประโยคสัญลักษณ์

2 เขียนวงล้อมรอบส่วนที่โจทย์ถาม ชิดเส้นใต้ส่วนที่โจทย์บอก เขียนแผนภาพแสดงแนวคิด เขียนประโยคสัญลักษณ์ และแสดงวิธีหาคำตอบ

- 1) ร้านขายขนมเค้ก จัดขนมเค้ก 132 ชิ้นใส่กล่อง กล่องละ 4 ชิ้น และขายไปราคากล่องละ 59 บาท จะขายขนมเค้กได้เงินทั้งหมดกี่บาท



แผนภาพแสดงแนวคิด



ประโยคสัญลักษณ์

วิธีทำ

ขนมเค้ก

ใส่กล่อง กล่องละ 4 ชิ้น จะได้

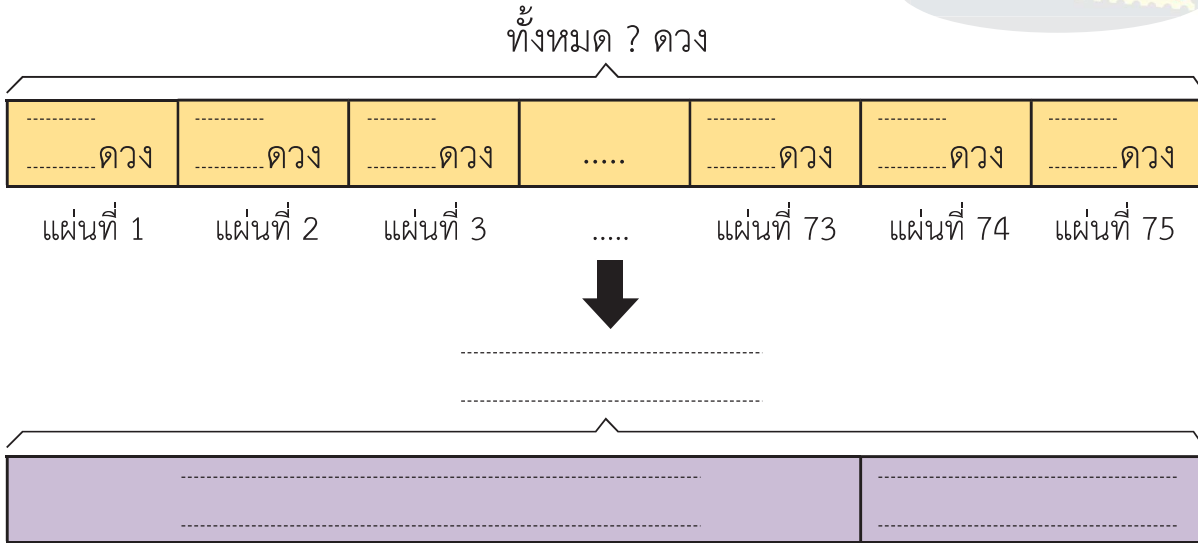
ขายไปราคากล่องละ 59 บาท จะได้เงิน

ตอบ จะขายขนมเค้กได้เงินทั้งหมด

2) ร้านค้ามีแสตมป์ 75 แผ่น แต่ละแผ่นมีแสตมป์ 20 ดวง ต่อมาขายแสตมป์ไป 1,367 ดวง ร้านค้าเหลือแสตมป์กี่ดวง



แผนภาพแสดงแนวคิด



ประโยคสัญลักษณ์

วิธีทำ

ร้านค้ามีแสตมป์ แผ่น แต่ละแผ่นมีแสตมป์

จำนวนแสตมป์ที่ร้านค้ามีทั้งหมด

ร้านค้าเหลือแสตมป์

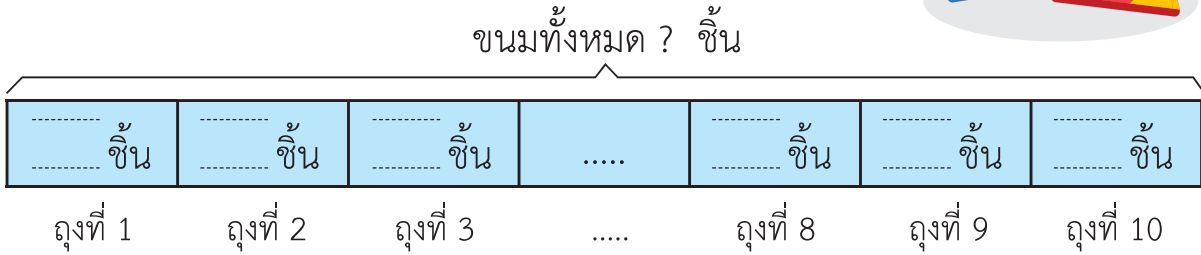
ตอบ ร้านค้าเหลือแสตมป์



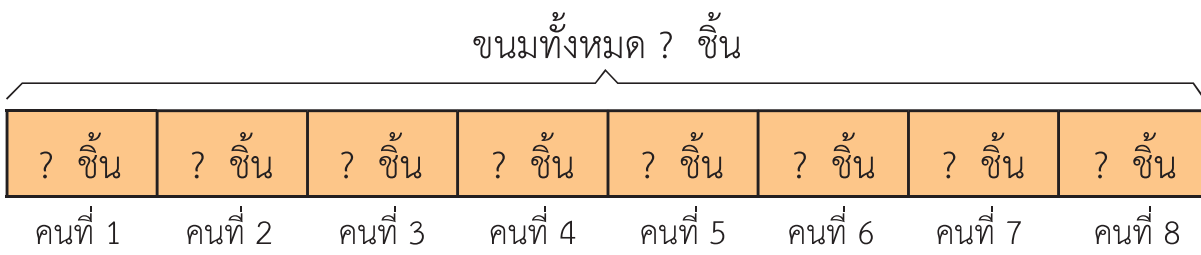
3) เมตตามีขนม 10 ถุง แต่ละถุงมีขนม 12 ชิ้น เมตตานำขนมทั้งหมดไปแบ่งให้เด็ก 8 คน คนละเท่า ๆ กัน เด็กจะได้ขนมคนละกี่ชิ้น



แผนภาพแสดงแนวคิด



แบ่งให้เด็กคน คนละเท่า ๆ กัน



ประโยคสัญลักษณ์

วิธีทำ

เมตตามีขนม ถุง แต่ละถุงมีขนม

เมตตามีขนมทั้งหมด

เด็กจะได้ขนมคนละ

ตอบ เด็กจะได้ขนมคนละ

