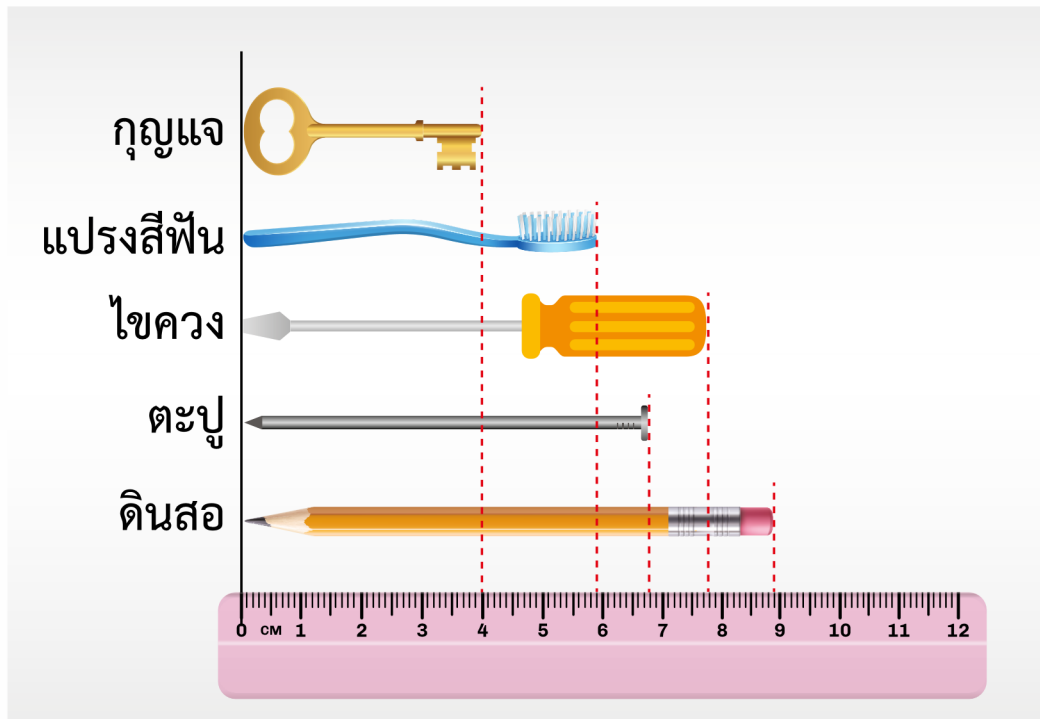


แบบฝึกหัด 8.1

1. พิจารณารูป แล้วตอบคำถามต่อไปนี้

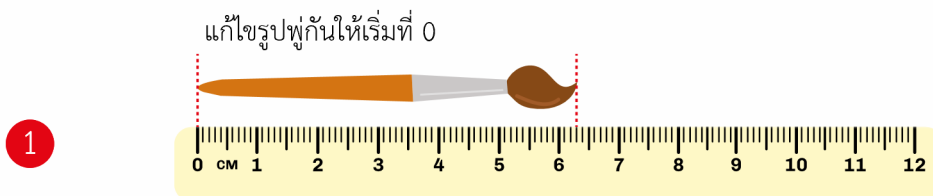


- | | | | | | |
|---|--------------|-------|-----------|-------|-----------|
| 1 | กุญแจยาว | _____ | เซนติเมตร | _____ | มิลลิเมตร |
| 2 | ไขควงยาว | _____ | เซนติเมตร | _____ | มิลลิเมตร |
| 3 | ดินสอยาว | _____ | เซนติเมตร | _____ | มิลลิเมตร |
| 4 | แปรงสีฟันยาว | _____ | เซนติเมตร | _____ | มิลลิเมตร |
| 5 | ตะปูยาว | _____ | เซนติเมตร | _____ | มิลลิเมตร |

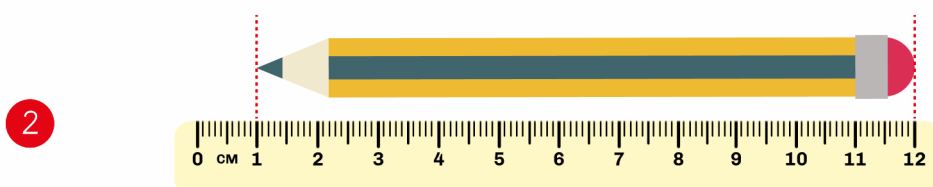


สถาบันส่งเสริมการสอนวิทยาศาสตร์และเทคโนโลยี (สสวท.)


2. บอกความยาวของรูปที่กำหนด




พู่กันยาว.....เซนติเมตร.....มิลลิเมตร



ดินสอยาว.....เซนติเมตร.....มิลลิเมตร



ช้อนยาว.....เซนติเมตร.....มิลลิเมตร



กล่องยาสีฟันยาว.....เซนติเมตร.....มิลลิเมตร



สถาบันส่งเสริมการสอนวิทยาศาสตร์และเทคโนโลยี (สสวท.)

3. จงวัดความยาวเป็นเมตรและเซนติเมตร

- 1 ความสูงของประตู
- 2 ความกว้างของประตู
- 3 ความกว้างของห้องเรียน
- 4 ความยาวของกระดานดำ
- 5 ระยะทางจากกระดานดำถึงหลังห้องเรียน
- 6 ระยะทางจากประตูห้องถึงโต๊ะนักเรียน
- 7 ความสูงของโต๊ะนักเรียน
- 8 ระยะทางจากกระดานดำถึงโต๊ะนักเรียน

