

รายวิชาสังคมศึกษา

รหัสวิชา ส๑๖๑๐๑

ชั้นประถมศึกษาปีที่ ๖

ลักษณะภูมิประเทศภาคใต้

ครูผู้สอน ครูอาทิตย์ ศรีรุ่ง

ครูภากร อุปการแก้ว



ลักษณะภูมิประเทศ

ภาคใต้



จุดประสงค์

๑. นักเรียนอธิบายลักษณะภูมิประเทศภาคใต้ของไทยได้ถูกต้อง



จุดประสงค์


๒. นักเรียนวิเคราะห์ลักษณะ
ภูมิประเทศที่ส่งผลต่อ
วิถีชีวิตของประชากร
ในภาคใต้ได้ถูกต้อง



จุดประสงค์

๓. นักเรียนอภิปรายถึง
ความสำคัญของการศึกษา เรื่อง
ลักษณะภูมิประเทศภาคใต้
ของไทยได้อย่างมีเหตุผล






อ่าวมาหยา



วัดพระมหาธาตุวรมหาวิหาร



หนังตะลุง



ยางพารา

จังหวัด ในภาคใต้





จังหวัดในภาคใต้



๑๔ จังหวัด

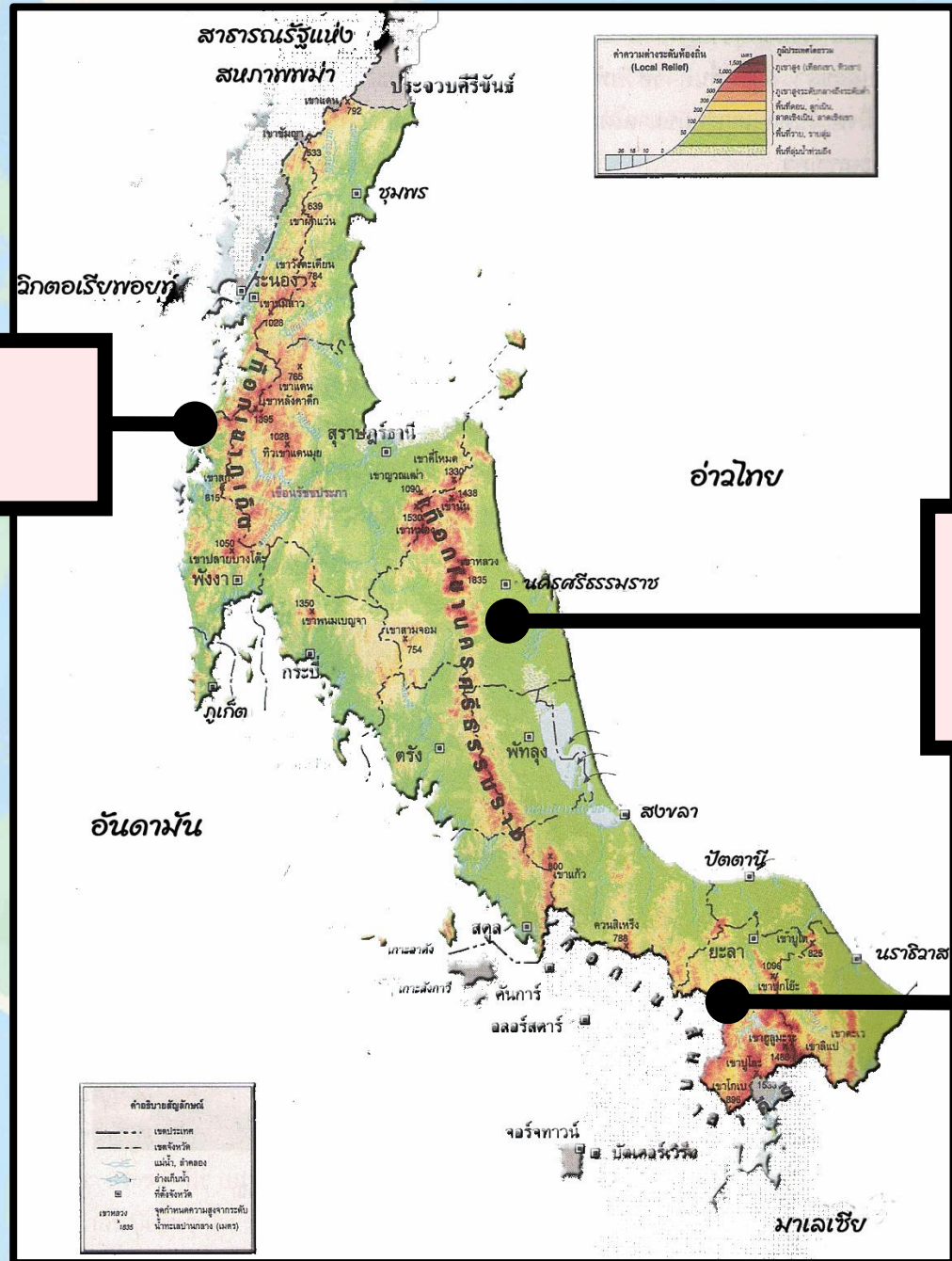
A magnifying glass is positioned over a world map, focusing on the Southeast Asian region. The map shows various countries and bodies of water like the Arabian Sea and the Indian Ocean. Overlaid on the map are several decorative elements: a lightbulb icon in an orange circle at the top right, a thumbs up icon in a yellow circle at the bottom left, and a green circle and a blue circle. The text 'ทิวเขาในภาคใต้' is centered within the magnifying glass's lens.


ทิวเขา ในภาคใต้

ทิวเขาภูเก็ต

ทิวเขาานครศรีธรรมราช

ทิวเขาสันกาลาศีรี






เขากลาง

ภาพจาก วิกิรานต์ ท้าวด้าว หัวหน้าอุทยานแห่งชาติเขากลาง

<https://twitter.com/nakhon224/status/771197793855676417/photo/1>



เหมืองแร่ดีบุก

แม่น้ำ ในภาคใต้





ระบบแม่น้ำในภาคใต้ มี 2 แบบ

1) ระบบแม่น้ำที่ไหลลงสู่ทะเลอ่าวไทย
(ภาคใต้ฝั่งตะวันออก)

เช่น แม่น้ำ ตาปี แม่น้ำคีรีรัฐ แม่น้ำหลังสวน
แม่น้ำปากพนัง แม่น้ำปัตตานี แม่น้ำสายบุรี
แม่น้ำโก-ลก เป็นต้น

2) ระบบแม่น้ำที่ไหลลงสู่ทะเลอันดามัน
(ภาคใต้ฝั่งตะวันตก)

เช่น แม่น้ำตรัง แม่น้ำกระบือ แม่น้ำตะกั่วป่า
เป็นต้น

แม่น้ำกระบือ

แม่น้ำหลังสวน

แม่น้ำคีรีรัฐ

แม่น้ำตาปี

แม่น้ำปากพนัง


แม่น้ำตะกั่วป่า

แม่น้ำตรัง

แม่น้ำปัตตานี

แม่น้ำสายบุรี

แม่น้ำโก-ลก

An aerial photograph showing a wide river with a multi-lane highway bridge crossing it. On the right bank, there is an industrial facility with several large green cylindrical storage tanks. To the left of the bridge, there are several large industrial buildings with grey roofs. The riverbank is lined with lush green trees and some small structures. The water in the river is a muddy brown color.


แม่น้ำตาปี



ประตูระบายน้ำอุทกวิภาชประสิทธิ์

A magnifying glass is positioned over a world map, focusing on Southeast Asia. The map shows various countries including Indonesia, Malaysia, and the Philippines. A lightbulb icon is in the top right, and a thumbs up icon is in the bottom left. The text 'ที่ราบในภาคใต้' is centered in the magnifying glass's lens.

ที่ราบ ในภาคใต้



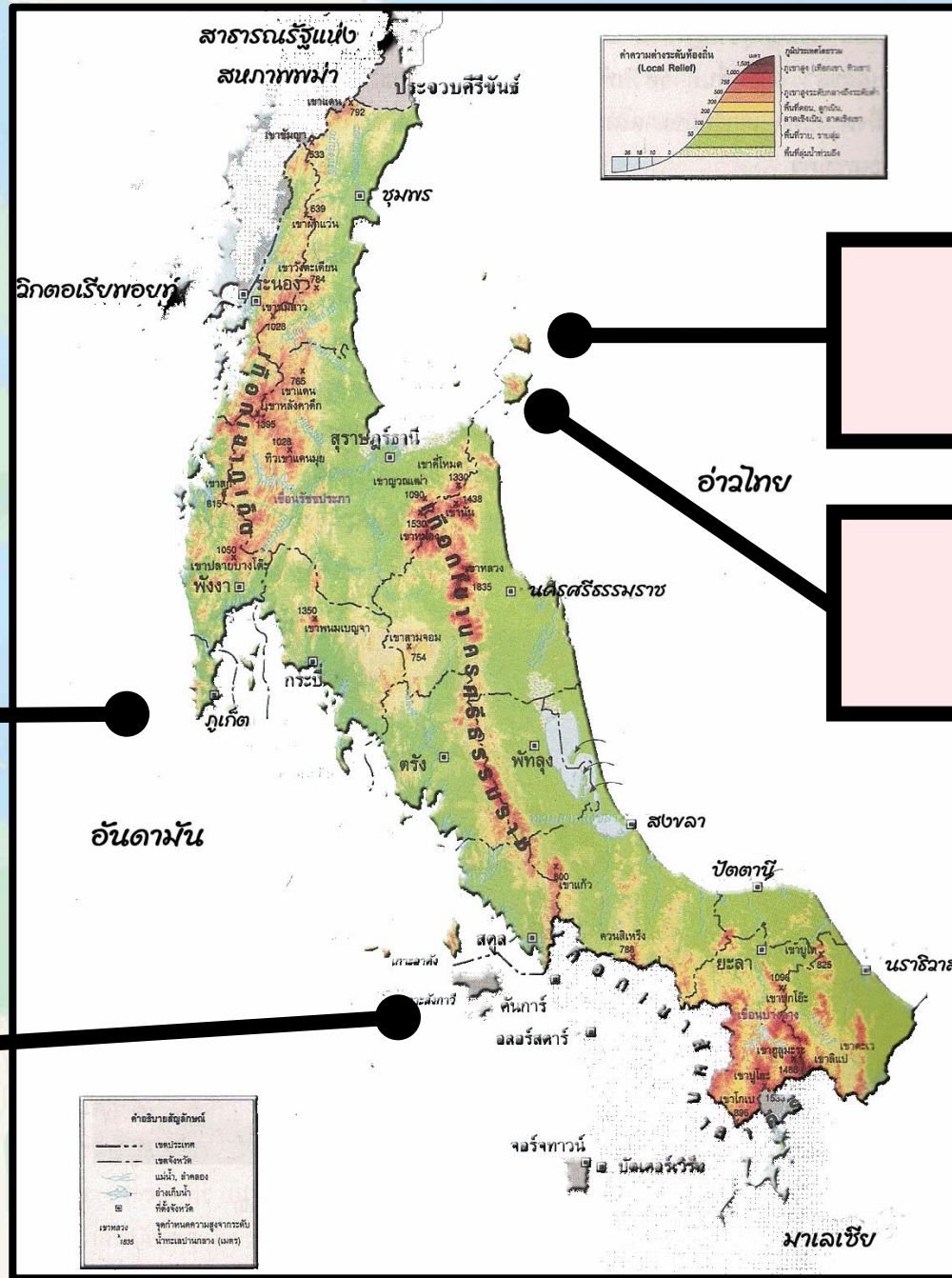
ที่ราบด้านชายฝั่งตะวันออก



ลุ่มทะเลสาบสงขลา

A magnifying glass is positioned over a world map, focusing on Southeast Asia. The map shows various countries including Indonesia, Malaysia, and the Philippines. A lightbulb icon in an orange circle is in the upper right, and a thumbs up icon in a yellow circle is in the lower left. A green circle is also visible near the magnifying glass handle.

เกาะ ในภาคใต้



เกาะพังงัน

เกาะสมุย

เกาะภูเก็ต

เกาะตะรุเตา



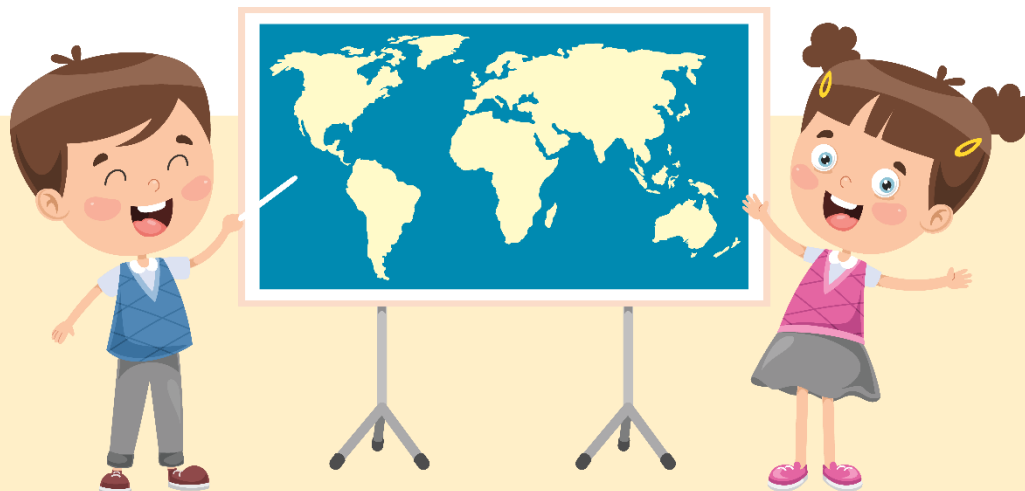
เกาะภูเก็ต



เกาะสมุย

“แฟนพันธุ์แท้ภาคใต้”

ครูนำเสนอภาพลักษณะภูมิประเทศ และวิถีชีวิตอื่น ๆ ของ
ผู้คนในภาคใต้ จำนวน ๑๐ ภาพ และให้นักเรียนยกมือตอบคำถาม
ว่าภาพดังกล่าวอยู่ในบริเวณจังหวัดใดของภาคใต้





วัดพระมหาธาตุวรมหาวิหาร

- พังงา
- ภูเก็ต
- นครศรีธรรมราช
- สงขลา




วัดพระบรมธาตุไชยาราชวรวิหาร


- สุราษฎร์ธานี
- ภูเก็ต
- นครศรีธรรมราช
- สงขลา




เขื่อนรัชชประภา




สุราษฎร์ธานี



ภูเก็ต



นครศรีธรรมราช



สงขลา



ทะเลน้อย

สุราษฎร์ธานี

พัทลุง

ชุมพร

สงขลา



หมู่บ้านคีรีวง

- สุราษฎร์ธานี
- นครศรีธรรมราช
- ปัตตานี
- สงขลา




เกาะเต่า

สุราษฎร์ธานี

พัทลุง

ชุมพร

สงขลา



ประเพณีให้ทานไฟ

- สุราษฎร์ธานี
- นครศรีธรรมราช
- ปัตตานี
- สงขลา




วัดเจดีย์


- สุราษฎร์ธานี
- นครศรีธรรมราช
- ปัตตานี
- สงขลา




เสม็ดนางชี




พังงา



นครศรีธรรมราช




ภูเก็ต




สงขลา




อุทยานหอย




กระบี่



นครศรีธรรมราช



ปัตตานี



สงขลา

คำถามชวนคิด



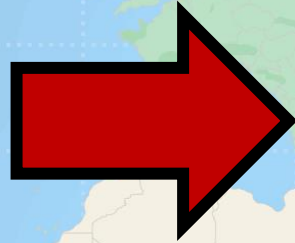
ลักษณะทางกายภาพของภาคใต้
มีอิทธิพลต่อวิถีชีวิตของ
ผู้คนที่นี่อาศัยอยู่อย่างไรบ้าง





จาก <https://www.changonenumtang.com>

ที่ราบชายฝั่งทะเล

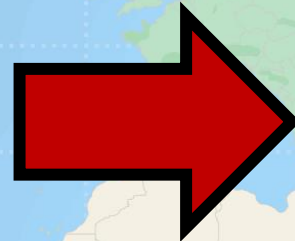


จาก <https://fonsuneerut0710.wordpress.com>

ประเพณีลอยเรือชาวเล




จาก <https://sirrithon.wordpress.com/>



จาก <http://www.phichit.doae.go.th/?p=1631>

ที่ราบชายฝั่งทะเล

ยางพารา ปาล์มน้ำมัน



ครูให้นักเรียนทำใบงานที่ ๗
เรื่อง ลักษณะภูมิประเทศภาคใต้



คำชี้แจงในการทำ กิจกรรมนักเรียน

ให้นักเรียนระบุตำแหน่งของ
จังหวัด แม่น้ำ และเทือกเขาใน
ภาคใต้ ของไทยลงในแผนที่
ด้านล่าง พร้อมตอบคำถาม
ที่กำหนดให้สมบูรณ์



คำชี้แจงบทบาท ครูปลายทาง

๑. ครูให้นักเรียนทำใบงานที่ ๗ เรื่อง
ลักษณะภูมิประเทศภาคใต้
๒. ครูให้นักเรียนลงมือทำใบงานได้
๓. ครูให้ความช่วยเหลือนักเรียนตาม
ความเหมาะสม



ใบงานที่ ๗ เรื่อง ลักษณะภูมิประเทศภาคใต้



๑. ภาคใต้มีกี่จังหวัด อะไรบ้าง

.....
.....

๒. เทือกเขาที่สำคัญในภาคใต้ มีเทือกเขาอะไรบ้าง

.....
.....

๓. แม่น้ำที่สำคัญในภาคใต้ มีแม่น้ำอะไรบ้าง

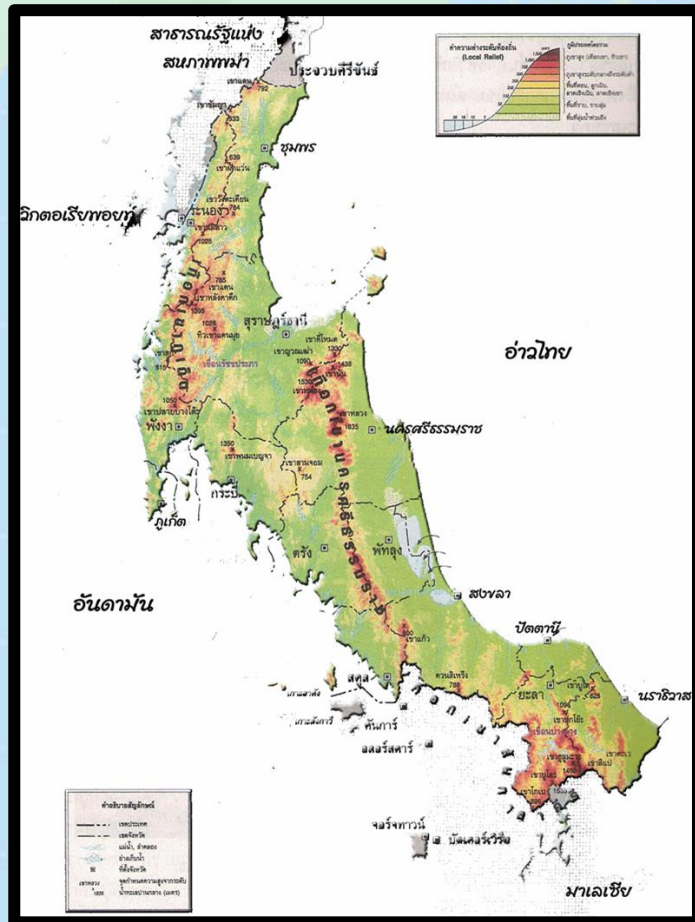
.....
.....

๔. เกาะที่สำคัญในภาคใต้ มีเกาะอะไรบ้าง

.....
.....



สรุป



๑. ภาคใต้มีกี่จังหวัด อะไรบ้าง

ภาคใต้มี ๑๔ จังหวัด ได้แก่ จังหวัดกระบี่ จังหวัดชุมพร จังหวัดตรัง จังหวัดนครศรีธรรมราช จังหวัดนราธิวาส จังหวัดปัตตานี จังหวัดพังงา จังหวัดพัทลุง จังหวัดภูเก็ต จังหวัดระนอง จังหวัดสตูล จังหวัดสงขลา จังหวัดสุราษฎร์ธานี จังหวัดยะลา

๒. เทือกเขาที่สำคัญในภาคใต้ มีเทือกเขาอะไรบ้าง

เทือกเขาภูเก็ต เทือกเขานครศรีธรรมราช เทือกเขาสันกาลาคีรี

๓. แม่น้ำที่สำคัญในภาคใต้ มีแม่น้ำอะไรบ้าง

แม่น้ำตาปี แม่น้ำสายบุรี แม่น้ำปากพนัง แม่น้ำโกลก

๔. เกาะที่สำคัญในภาคใต้ มีเกาะอะไรบ้าง

เกาะภูเก็ต เกาะสมุย เกาะพังงัน เกาะตะรุเตา

บทเรียนครั้งต่อไป



ลักษณะภูมิอากาศ ของประเทศไทย

สามารถดาวน์โหลดได้ที่ www.dltv.ac.th

