

รายวิชาสังคมศึกษา

รหัสวิชา ส๑๖๑๐๑

ชั้นประถมศึกษาปีที่ ๖

ลักษณะภูมิประเทศภาคกลาง

ครูผู้สอน ครูอาทิตย์ ศรีรุ่ง

ครูภากร อุปการแก้ว



ลักษณะภูมิประเทศ

ภาคกลาง



จุดประสงค์

๑. นักเรียนอธิบาย
ลักษณะภูมิประเทศ
ภาคกลางของไทยได้ถูกต้อง



จุดประสงค์

๒. นักเรียนวิเคราะห์ลักษณะ
ภูมิประเทศที่ส่งผลต่อ
วิถีชีวิตของประชากรใน
ภาคกลางได้ถูกต้อง



จุดประสงค์


๓. นักเรียน อภิปราย ถึง

ความสำคัญของการศึกษา

เรื่อง ลักษณะภูมิประเทศภาคกลาง

ของไทยได้อย่างมีเหตุผล




A top-down view of a white bowl filled with Tom Yum Kung, a Thai spicy soup. The soup has a vibrant orange-red color. Large, succulent prawns are the main protein, with their heads and tails intact. Garnishes include a slice of lime, several bright red chilies, and fresh green leaves, likely kaffir lime leaves. The bowl is set on a rustic wooden surface. Surrounding the bowl are fresh ingredients: a whole tomato and green chili in a woven basket on the left, and stalks of lemongrass on the right. A silver fork is partially visible on the right side.

ต้มยำกุ้ง



รำกลองยาว



นาข้าว

A magnifying glass is positioned over a world map, focusing on the Southeast Asian region. The map shows various countries including Indonesia, the Philippines, and Papua New Guinea. The text 'จังหวัดในภาคกลาง' is centered within the magnifying glass's lens. There are four colored circles around the lens: an orange one with a lightbulb icon at the top right, a green one at the top right, a yellow one with a thumbs-up icon at the bottom left, and a blue one at the bottom right.

จังหวัด ในภาคกลาง





จังหวัดในภาคกลาง



1. กรุงเทพมหานคร
2. นนทบุรี
3. ปทุมธานี
4. นครปฐม
5. สมุทรปราการ
6. สมุทรสาคร
7. สมุทรสงคราม
8. พระนครศรีอยุธยา
9. อ่างทอง
10. สิงห์บุรี

๒๒ จังหวัด

A magnifying glass is positioned over a world map, focusing on the Southeast Asian region. The map shows various countries including Indonesia, the Philippines, and Papua New Guinea. The text 'ทิวเขาในภาคกลาง' is centered within the magnifying glass's lens. There are four colored circles: a light blue one with a lightbulb icon at the top right, a green one below it, a yellow one with a thumbs-up icon at the bottom left, and a purple one at the bottom right.

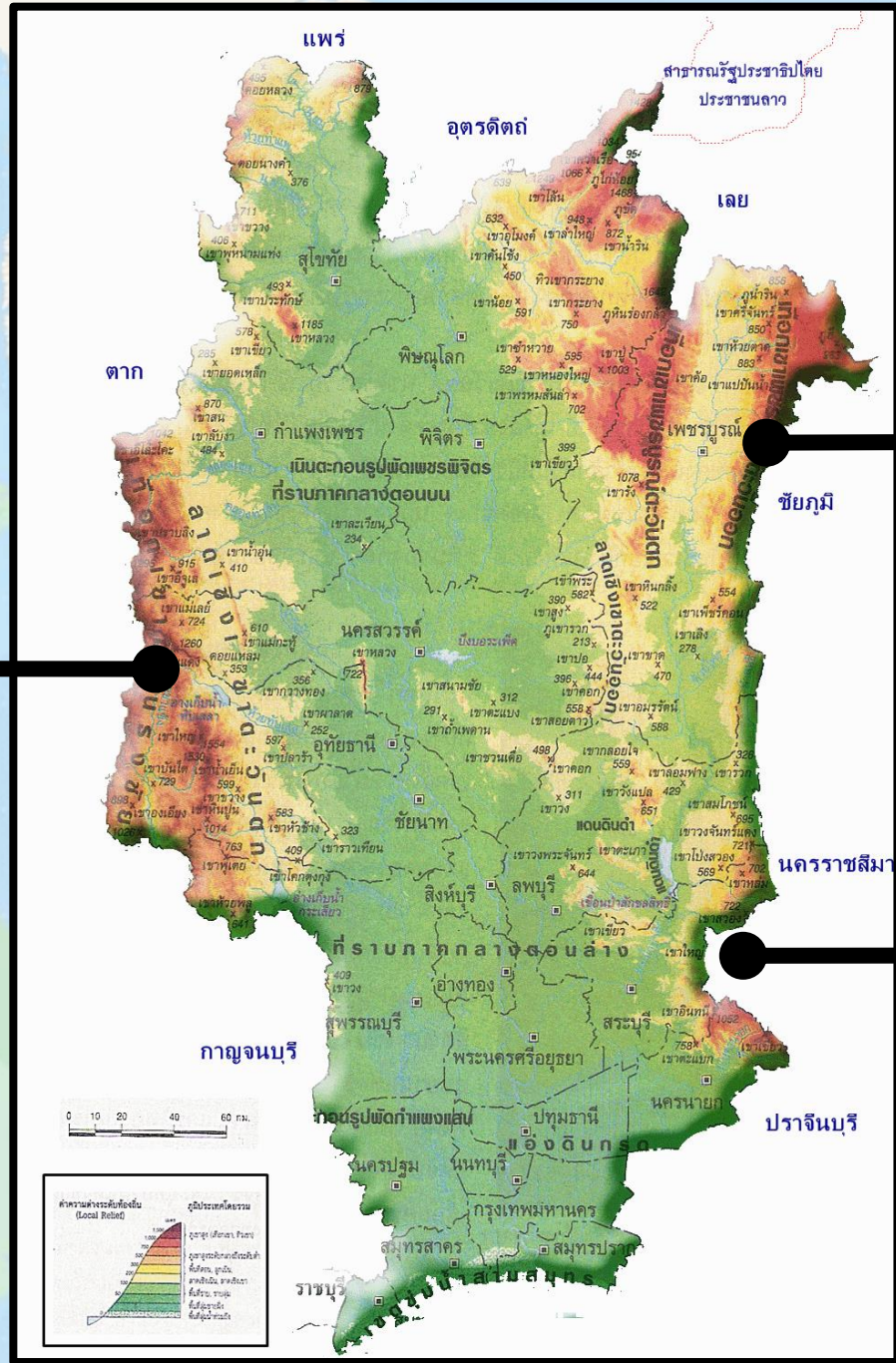
ทิวเขา ในภาคกลาง



ทิวเขาถนนธงชัย

ทิวเขาเพชรบูรณ์

ทิวเขาแดงพญาเย็น





เขาค้อ

แม่น้ำ ในภาคกลาง





แม่น้ำสะแกกรัง

แม่น้ำป่าสัก

แม่น้ำท่าจีน


แม่น้ำเจ้าพระยา

คำถามชวนคิด



แม่น้ำที่เปรียบเสมือนเส้นเลือดใหญ่
ของประเทศในภาคกลาง คือแม่น้ำใด





แม่น้ำเจ้าพระยา



ปากน้ำโพ



แม่น้ำท่าจีน

ที่ราบ ในภาคกลาง



คำถามชวนคิด



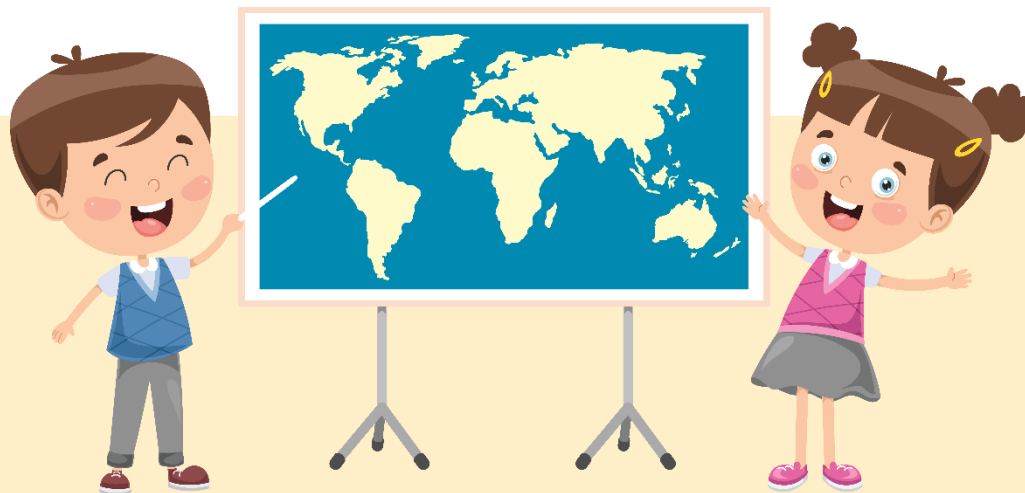
เหตุใดภาคกลางจึงเหมาะ
แก่การเพาะปลูกมากกว่าภาคอื่น ๆ






“แฟนพันธุ์แท้ภาคกลาง”

ครูนำเสนอภาพลักษณะภูมิประเทศ และวิถีชีวิตอื่น ๆ ของ
ผู้คนในภาคกลาง จำนวน ๑๐ ภาพ และให้นักเรียนยกมือตอบ
คำถามว่าภาพดังกล่าวอยู่ในบริเวณจังหวัดใดของภาคกลาง







ประเพณีโยนบัว




สุพรรณบุรี



สมุทรสาคร



สมุทรปราการ




สมุทรสงคราม




บึงบอระเพ็ด


- สมุทรสาคร
- อ่างทอง
- นครสวรรค์
- สุโขทัย




ตลาดน้ำอัมพวา




สิงห์บุรี



สมุทรสงคราม




นครนายก




สระบุรี




ทุ่งทานตะวัน




สุโขทัย




สมุทรปราการ




ลพบุรี




กาญจนบุรี




พระปฐมเจดีย์




อ่างทอง



นครนายก




ชัยนาท




นครปฐม




ประเพณีอุ้มพระดำน้ำ




ปราจีนบุรี




เพชรบูรณ์




อุทัยธานี




พิษณุโลก




พระปรางค์สามยอด




สิงห์บุรี



ลพบุรี




ปทุมธานี




อ่างทอง




วัดป่าเลไลยก์วรวิหาร




สุพรรณบุรี



ชัยนาท



สมุทรปราการ



ปทุมธานี




อุทยานประวัติศาสตร์สุโขทัย


- อ่างทอง
- สุโขทัย
- นครปฐม
- อุทัยธานี




ประเพณีตักบาตรเทโว วัดสังกัสรัตนคีรี




สระบุรี



ปทุมธานี



อุทัยธานี



สมุทรสาคร

คำถามชวนคิด



ลักษณะทางกายภาพของภาคกลาง

มีอิทธิพลต่อวิถีชีวิตของ

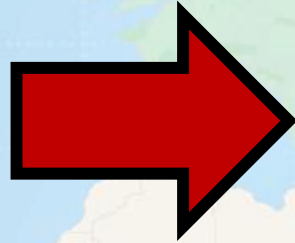
ผู้คนที่อาศัยอยู่อย่างใดบ้าง





จาก <https://th.wikipedia.org/wiki>

ที่ราบลุ่ม



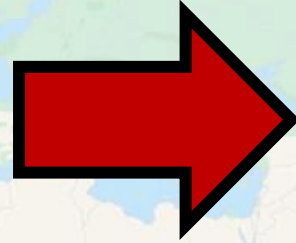
จาก https://www.youtube.com/watch?v=Ai_cKnfRbBI

ประเพณีตักบาตรทางน้ำ





จาก https://www.matichon.co.th/publicize/news_2255036

ที่ราบลุ่ม



จาก <https://www.youtube.com/watch?v=zKPA5xLLCAY>

การแสดงต้นกำรำเคียว



ครูให้นักเรียนทำใบงานที่ ๔
เรื่อง ลักษณะภูมิประเทศ

ภาคกลาง



คำชี้แจงในการทำ กิจกรรมนักเรียน

ให้นักเรียนระบุตำแหน่งของ
จังหวัด แม่น้ำ และเทือกเขาใน
ภาคกลางของไทยลงในแผนที่
ด้านล่าง พร้อมตอบคำถามที่
กำหนดให้สมบูรณ์

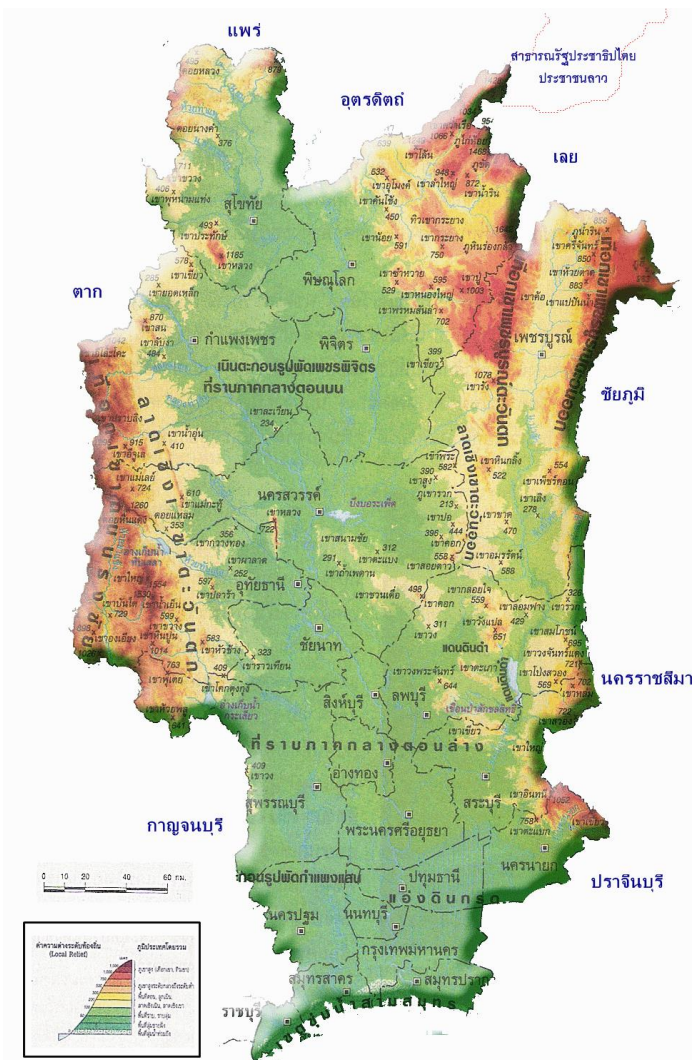


คำชี้แจงบทบาท ครูปลายทาง

๑. ครูให้นักเรียนทำใบงานที่ ๔ เรื่อง
ลักษณะภูมิประเทศภาคกลาง
๒. ครูให้นักเรียนลงมือทำใบงานได้
๓. ครูให้ความช่วยเหลือนักเรียนตาม
ความเหมาะสม



ใบงานที่ ๔ เรื่อง ลักษณะภูมิประเทศภาคกลาง



๑. ภาคกลางมีกี่จังหวัด อะไรบ้าง

.....

.....

๒. เทือกเขาที่สำคัญในภาคกลาง มีเทือกเขาอะไรบ้าง

.....

.....

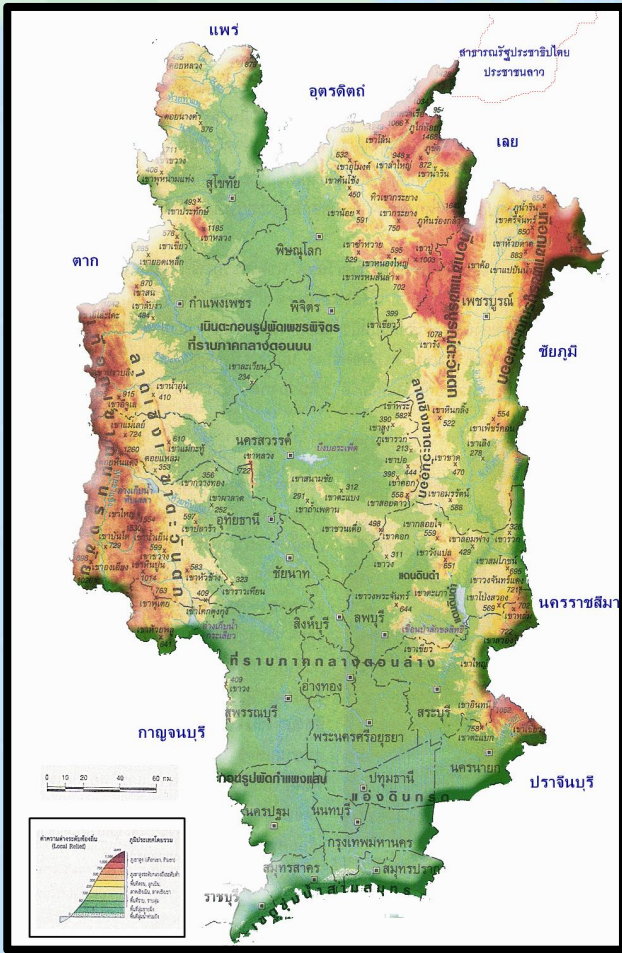
๓. แม่น้ำที่สำคัญในภาคกลาง มีแม่น้ำอะไรบ้าง

.....

.....



สรุป



๑. ภาคกลางมีกี่จังหวัด ได้แก่จังหวัดอะไรบ้าง

ภาคกลาง มี ๒๒ จังหวัด ได้แก่ กรุงเทพมหานคร กำแพงเพชร
ชัยนาท นครนายก นครปฐม นครสวรรค์ นนทบุรี ปทุมธานี
พระนครศรีอยุธยา พิษณุโลก เพชรบูรณ์ ลพบุรี
สมุทรปราการ สมุทรสงคราม สมุทรสาคร สระบุรี สิงห์บุรี สุโขทัย
สุพรรณบุรี อ่างทอง และอุทัยธานี

๒. เทือกเขาที่สำคัญในภาคกลาง มีเทือกเขาอะไรบ้าง

เทือกเขาเพชรบูรณ์ เทือกเขาถนนธงชัย เทือกเขาดงพญาเย็น

๓. แม่น้ำที่สำคัญในภาคกลาง มีแม่น้ำอะไรบ้าง

แม่น้ำเจ้าพระยา แม่น้ำป่าสัก แม่น้ำท่าจีน

บทเรียนครั้งต่อไป



ลักษณะภูมิประเทศ

ภาคตะวันออกเฉียง

สามารถดาวน์โหลดได้ที่ www.dltv.ac.th

