



ใบกิจกรรม 6 : รู้ข้อมูลจากการอ่านแท่ง

ชื่อ-สกุล ชั้น ม.2/ เลขที่

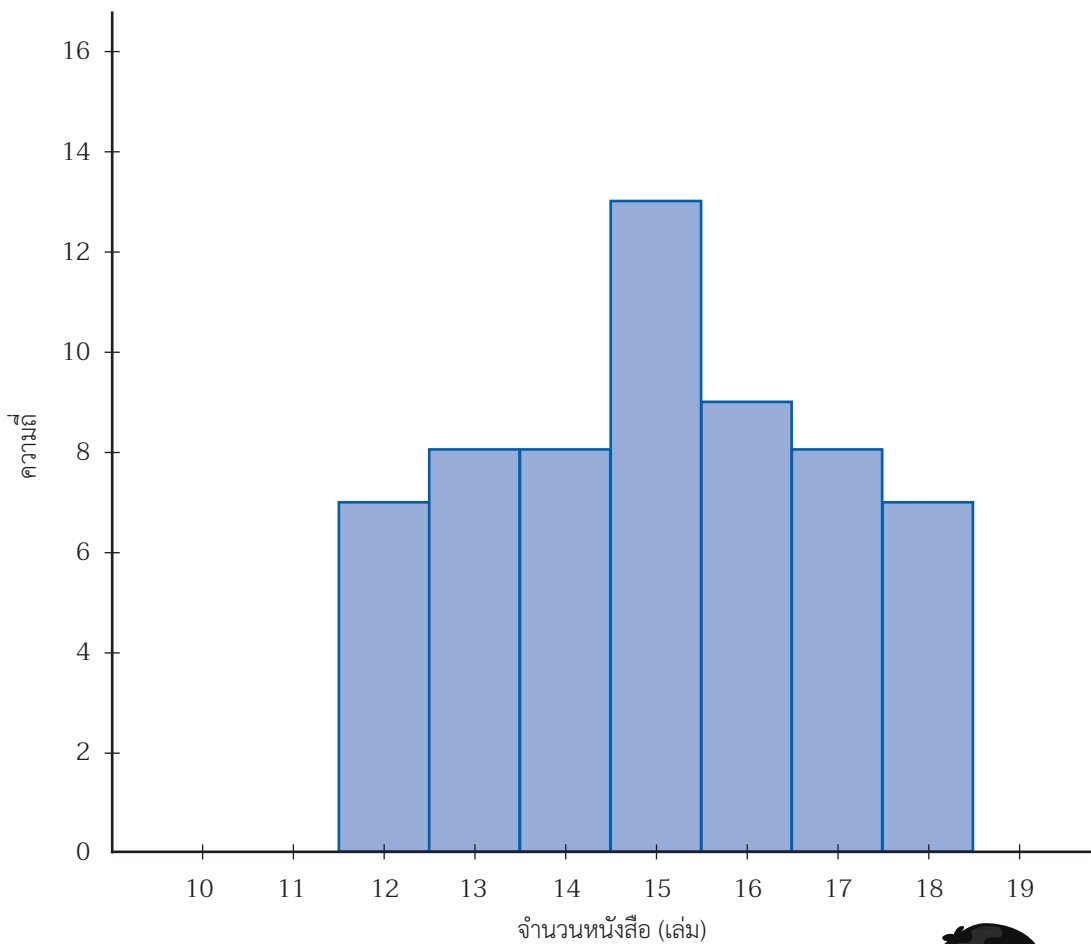
ชื่อ-สกุล ชั้น ม.2/ เลขที่

ชื่อ-สกุล ชั้น ม.2/ เลขที่

ตอนที่ 1 อ่านได้...ใช้ค่าเดียว

คำชี้แจง ให้นักเรียนพิจารณาฮิสโทแกรมที่กำหนดให้ แล้วตอบคำถามต่อไปนี้

ฮิสโทแกรมแสดงจำนวนหนังสือที่นักเรียนชั้น ม.2 อ่านได้ในปี พ.ศ. 2564



หน่วยการเรียนรู้ที่ 6 ความเข้าใจของข้อมูล

1. นักเรียนที่อ่านหนังสือได้น้อยที่สุดมีกี่คน และอ่านได้กี่เล่ม

ตอบ

2. นักเรียนที่อ่านหนังสือได้มากที่สุดมีกี่คน และอ่านได้กี่เล่ม

ตอบ

3. นักเรียนที่อ่านหนังสือได้เท่ากันมากที่สุดมีกี่คน และอ่านได้กี่เล่ม

ตอบ

4. กลุ่มของนักเรียนตามจำนวนหนังสือที่อ่านกลุ่มใดบ้าง ที่มีจำนวนนักเรียนเท่ากัน

ตอบ

5. โรงเรียนแห่งนี้ มีนักเรียนชั้น ม.2 ทั้งหมดกี่คน

ตอบ

6. โรงเรียนต้องการคัดเลือกนักอ่านดีเด่นประจำปี พ.ศ. 2562 โดยคัดเลือกจากนักเรียนที่อ่านหนังสือได้ 17 เล่มขึ้นไป มีนักเรียนชั้น ม.2 ที่ผ่านเกณฑ์การคัดเลือกกี่คน


ตอบ

7. นักเรียนสรุปลักษณะของข้อมูลจากฮิสโทแกรมนี้ได้อย่างไร

ตอบ

.....

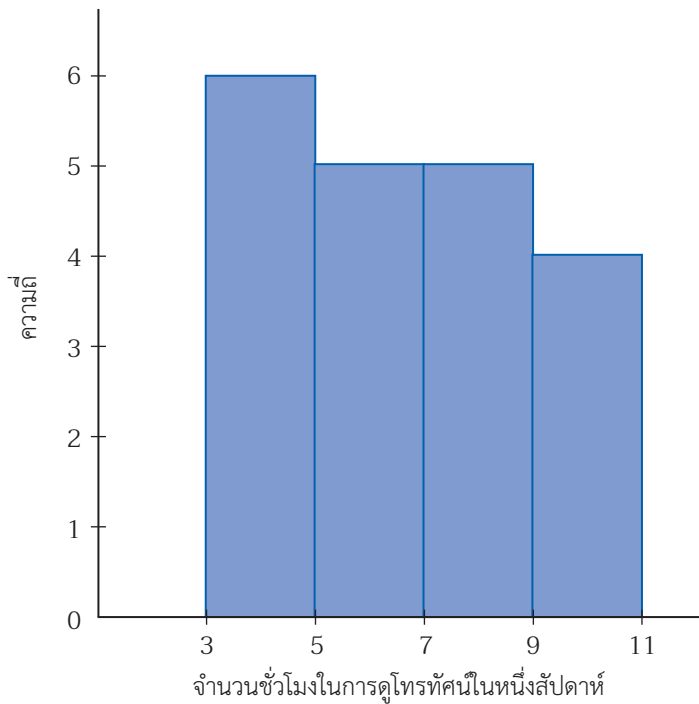
.....



ตอนที่ 2 อ่านได้...ดูเป็นช่วง

คำชี้แจง ให้นักเรียนพิจารณาฮิสโทแกรมที่กำหนดให้ แล้วตอบคำถามต่อไปนี้

ฮิสโทแกรมแสดงจำนวนชั่วโมงในการดูโทรทัศน์ในหนึ่งสัปดาห์
ของเด็กที่มีอายุต่ำกว่า 5 ปี ในหมู่บ้านแห่งหนึ่ง



1. เด็กที่มีอายุต่ำกว่า 5 ปี ใช้เวลาในการดูโทรทัศน์อยู่ในช่วงใดมากที่สุด และมีกี่คน

ตอบ

2. เด็กที่มีอายุต่ำกว่า 5 ปี ในหมู่บ้านแห่งนี้มีกี่คน

ตอบ

3. เด็กที่มีอายุต่ำกว่า 5 ปี ที่ดูโทรทัศน์มากกว่า 11 ชั่วโมง มีกี่คน

ตอบ

4. นักเรียนสรุปลักษณะของข้อมูลจากฮิสโทแกรมนี้ได้อย่างไร

ตอบ